
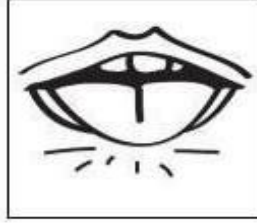



امتحان الفصل الثاني في التربية العلمية والتكنولوجية

التمرين الأول : أربط بين كل عضو وحاسته



الرؤية

اللمس








الشم

السمع

الذوق

التمرين الثاني :

ألون القرص بالأزرق اذا كان الجسم سائلا أو ألونه بالأحمر اذا كان صلبا.



التمرين الثالث:

أرتب الوجبات الغذائية اليومية بوضع 1-2-3-4 مكان النقط :

لُمَجَة

عَشَاء

فَطِيرُور

غَذَاء

(...)

(...)

(...)

(...)

امضاء الولي