




المستوى: الأول ابتدائي (1AP) فيفري 2016

اختبار الفصل الثاني في مادة التربية العلمية

النشاط الأول: 2

أضع العلامة (x) تحت الأعضاء التي أستخدمها لتفقد نبضات قلبي .



النشاط الثاني : 1.5

أربط كل حركة باسمها المناسب.

الإحناء

الرفع

الدفع



النشاط الثالث: 2ن

أكتب "ص" أو "خ" للعبارات التالية .

.
.
.
.

- أنا الجزرة، من عائلة الخضر و الفواكه، و مصدرى نباتي .
- أنا الماء من عائلة الحليب و مشتقاته، و مصدرى حيواني .
- أنا الزيت من عائلة الماء و المشروبات، و مصدرى نباتي .
- أنا الجمبري من عائلة البيض و اللحم، و مصدرى حيواني .

النشاط الرابع: 2.5ن

أملأ الجدول حسب المثال التالي .

لا يطفوا	يطفوا	صلب	سائل	الجسم
X		X		 تفاحة
				 قلم
				 ورقة
				 خبز
				 كرة
				 عصير

النشاط الخامس : 2ن

ألون وضعية دخول الهواء بالأحمر و وضعية خروج الهواء بالأزرق








المستوى: 1 ابتدائي

إختبار الفصل الثاني في التربية العلميّة

النشاط الأول: 2

أضع العلامة (x) تحت الأعضاء التي أستخدمها لتفقد نبضات قلبي .

				
X			X	

النشاط الثاني : 1.5

أربط كل حركة بإسمها المناسب.

الإحناء

الرّفْع

الدّفع



النشاط الثالث : 2

أكتب "ص" أو "خ" للعبارات التالية .

- أنا الجزرة، من عائلة الخضر و الفواكه، و مصدرى نباتي .
- أنا الماء من عائلة الحليب و مشتقاته، و مصدرى حيواني .
- أنا الزيت من عائلة الماء و المشروبات، و مصدرى نباتي .
- أنا الجمبري من عائلة البيض و اللحوم، و مصدرى حيواني .

ص
خ
خ
ص

النشاط الرابع :2.5ن

أملأ الجدول حسب المثال التالي .

لا يطفوا	يطفوا	صلب	سائل	الجسم
X		X		
X		X		
	X	X		
X		X		
	X	X		
X			X	

النشاط الخامس : 2ن

ألون وضعية دخول الهواء بالأحمر و وضعية خروج الهواء بالأزرق

