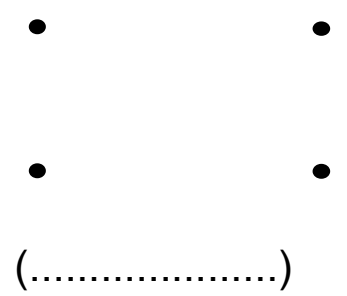
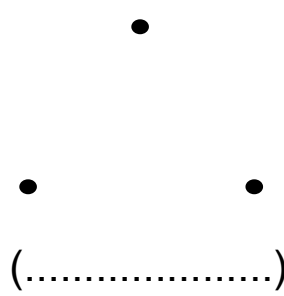
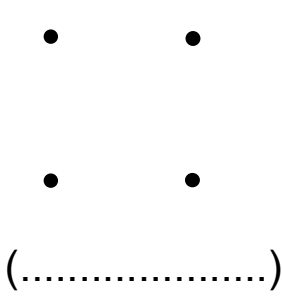


التمرين الأول: صل بالمسطرة النقط للخطوط على أشكال وسمّها.



التمرين الثاني: رتب الأعداد التالية من الأصغر إلى الأكبر.

30 ، 50 ، 10 ، 90 ، 70 ، 60 ، 80 ، 20 ، 40



10
----	-------	-------	-------	-------	-------	-------	-------	-------

التمرين الثالث: أحسب ما يلي:

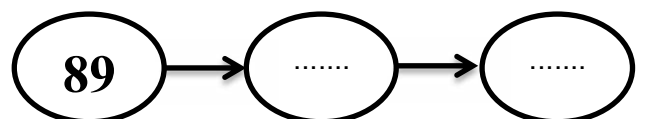
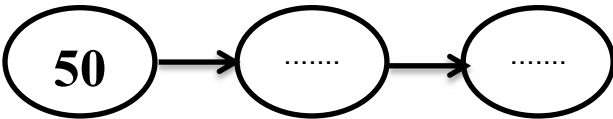
$$\begin{array}{r} 67 \\ + \\ 22 \\ \hline = . . \end{array}$$

$$\begin{array}{r} 34 \\ + \\ 23 \\ \hline = . . \end{array}$$

$$\begin{array}{r} 45 \\ + \\ 34 \\ \hline = . . \end{array}$$

$$\begin{array}{r} 48 \\ + \\ 21 \\ \hline = . . \end{array}$$

التمرين الرابع: أكمل كتابة الأعداد المتتالية



التمرين الخامس: أفكّك و أركب

$$\begin{aligned} 35+52 &= \dots + \dots + \dots + \dots \\ &= \dots + \dots \\ &= \dots \end{aligned}$$

$$\begin{aligned} 46+23 &= \dots + \dots + \dots + \dots \\ &= \dots + \dots \\ &= \dots \end{aligned}$$