

التمرين الأول: (2 ن) انجز العمليات الآتية

$$\begin{array}{r} 25 \\ + \\ \hline \dots \\ = 41 \end{array}$$

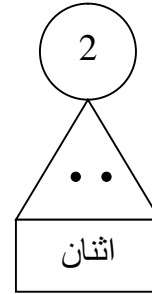
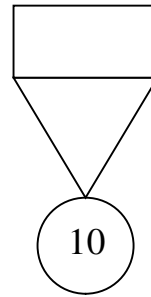
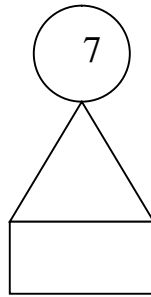
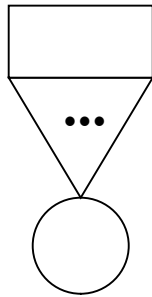
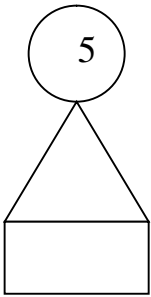
$$\begin{array}{r} 38 \\ - 16 \\ \hline \dots \\ = \dots \end{array}$$

$$\begin{array}{r} 43 \\ + \dots \\ \hline = 67 \end{array}$$

$$\begin{array}{r} 12 \\ + \\ \hline 39 \\ = \dots \end{array}$$

التمرين الثاني: (2 ن) أكتب الأعداد المحصورة بين **10** و **98** التي رقم أحادها **6**

....	26
------	----	------	------	------	------	------	------	------



التمرين الثالث: (2 ن)

الأحظ و أكمل

3				
2				
1				
	1	2	3	4

التمرين الرابع: (2 ن) ألاحظ المرصوفة

- ❖ - ألون بالأحمر الخانة الواقعة في السطر 2 و في العمود 3
- ❖ - ألون بالأصفر الخانة الواقعة في السطر 1 و في العمود 2
- ❖ - ألون بالأخضر الخانة الواقعة في السطر 1 و في العمود 1
- ❖ - ألون بالأزرق الخانة الواقعة في السطر 3 و في العمود 4

التمرين الخامس: (2 ن)

عند رضا 26 كرية، لعب مع أصحابه خسر 14 كرية.
كم كرية بقيت عنده؟

$$\dots - \dots = \dots$$

بقي عنده.....كرية

$$\begin{array}{r} \dots \\ \hline \dots \\ = \dots \end{array}$$