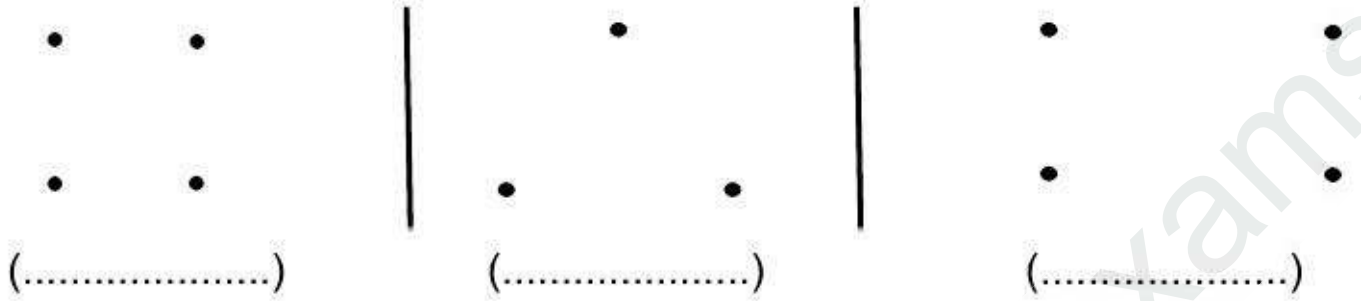


**التمرين الأول:** صل بالمسطرة النقط للخصول على أشكال وسمها.



**التمرين الثاني:** رتب الأعداد التالية من الأصغر إلى الأكبر.

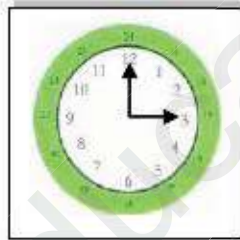
26 ، 31 ، 16 ، 44 ، 53 ، 62 ، 70 ، 80



10	.....	.....	.....	.....	.....	.....	.....	.....
----	-------	-------	-------	-------	-------	-------	-------	-------

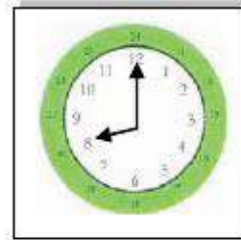
**التمرين الثالث:** أكتب حسب التوقيت المناسب:

مساءً



.....

صباحاً



.....

**الوضعية الإدماجية:** كان عند أحمد 45 كرتية حمراء وأعطاه أخوه علاء 31 كرتية زرقاء .

- ما هو عدد الكريات التي عند أحمد الآن؟

الأجوبة

الحل

العمليات

..... = .....	.....
عدد الكريات هو ..... كرتية	..... =