

قسم : السنة الاولى ابتدائي
السنة الدراسية : 2016/2017

ابتدائية : عبيدين بوفلجة
الاستاذ : بودواية محمد

اختبار الفصل الثالث في الرياضيات

التمرين الاول: رتب ايام الاسبوع بالارقام ثم لون ايام العطلة

السبت	الثلاثاء	الاحد	الخميس	الجمعة	الاربعاء	الاثنين
<input type="text"/>	<input type="text"/>	<input type="text"/>	<input type="text"/>	<input type="text"/>	<input type="text"/>	<input type="text"/>

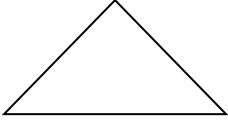



التمرين الثاني : اكمل الشريط بالاضافة بالعشرة

13			53				93
----	--	--	----	--	--	--	----

التمرين الثالث: احسب العمليات عموديا

$98 - 73 =$	$65 + 24 =$
<input type="text"/>	<input type="text"/>

التمرين الرابع : سم الاشكال التالية

			
.....

التمرين الخامس :

عند احمد 25 كرية اعطاه بلال 10 كريات .
كم اصبح عند احمد؟

العمليات	الاجابة
