

النموذج الثاني للاختبار الثلاثي الثالث

التمرين الأول : ضع العبارة المناسبة (أكبر من - أصغر من - يساوي) .

$30 + 40 + 2$	70	60	$30 + 30 + 10$
$40 + 20 + 8$	65	80	$40 + 20 + 20$
$40 + 30 + 4$	74	50	$40 + 20 + 10$

التمرين الثاني : ألاحظ ثم أكمل .

72	74	.	.	80	.	.	.	90	.	.	98
----	----	---	---	----	---	---	---	----	---	---	----

التمرين الثالث : ألاحظ الرّسم وأكتب العدد المناسب بالحروف .

	الكتابة بالأرقام	الكتابة بالحروف
	3
	6
	5

التمرين الرابع :

رَسَمَت ليلي 34 زهرة ، ورسمت سَلْمَى 47 زهرة .

$$\begin{array}{r}
 + \quad \text{.....} \\
 \text{.....} \\
 \hline
 = \quad \text{.....}
 \end{array}$$

• أحسب عدد الأزهار المرسومة .

عدد الأزهار المرسومة هو :

النموذج الثاني للاختبار الثلاثي الثالث

التعريف الأول : أضع العبارة المناسبة .




70 أصغر من $30 + 40 + 2$
65 أصغر من $40 + 20 + 8$
74 يساوي $40 + 30 + 4$

60 أكبر من $30 + 30 + 10$
80 يساوي $40 + 20 + 20$
50 أكبر من $40 + 20 + 10$

التعريف الثاني : ألاحظ ثم أكمل .

72	74	76	78	80	82	84	86	88	90	92	94	96	98
----	----	----	----	----	----	----	----	----	----	----	----	----	----

التعريف الثالث : ألاحظ الرسم وأكتب العدد المناسب بالحروف .

	الكتابة بالأرقام	الكتابة بالحروف
	3	ثلاثة
	6	ستة
	5	خمسة

التعريف الرابع :

رَسَمَت لَيْلَى 34 زهرة ، ورَسَمَت سَلْمَى 47 زهرة .

• حساب عدد الأزهار المرسومة :

عدد الأزهار المرسومة هو : **81** زهرة

$$\begin{array}{r} 34 \\ + 47 \\ \hline = 81 \end{array}$$