


تقويم الفصل الثالث في مادة الرياضيات (ميدان الأعداد والحساب)

التمرين 01:

أكمل الشريط العددي:



اكتب بالأرقام أو بالحروف الأعداد الآتية:

.....	43
.....	10
سبعة وستون
خمسة عشر

التمرين 02:

فكك الأعداد حسب المثال:

$$67 = 60 + 7$$

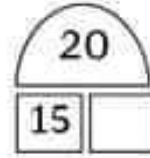
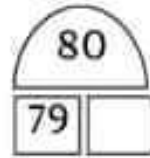
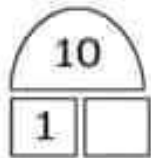
$$85 = \dots + \dots$$

$$19 = \dots + \dots$$

$$91 = \dots + \dots$$

التمرين 03:

اكتب المتبقي إلى العشرة المئوية:



الوضعية الإدماجية:

تملك أميمة مبلغًا قدره 67 دينارًا، اشترت بالونًا بـ 25 دينارًا.
ما هو المبلغ المتبقي عند أميمة؟

$$\dots \cdot \dots = \dots$$

المبلغ المتبقي عند أميمة هو دينارًا

تقويم الفصل الثالث في مادة الرياضيات (ميدان المقادير والقياس)

التمرين 01:

أَكْمِلْ كِتَابَةَ السَّاعَةِ بِالْأَعْدَادِ:

السَّاعَةُ السَّادِسَةُ مَسَاءً

السَّاعَةُ السَّابِعَةُ صَبَاحًا

السَّاعَةُ الثَّلَاثَةُ بَعْدَ الظُّهْرِ

السَّاعَةُ الْعَاشِرَةُ مَسَاءً

التمرين 02:

أَكْتُبِ التَّوْقِيتَ الَّذِي تُشِيرُ إِلَيْهِ كُلُّ سَاعَةٍ:

بَعْدَ الظُّهْرِ



صَبَاحًا



مَسَاءً



التمرين 03:


أرْسُمْ عَقْرَبِي كُلَّ سَاعَةٍ:



تقويم الفصل الثالث في مادة الرياضيات (ميدان الفضاء والهندسة)

التمرين 01:

سَمِّ الأَشْكَالَ الهَنْدَسِيَّةَ الآتِيَةَ:



التمرين 02:

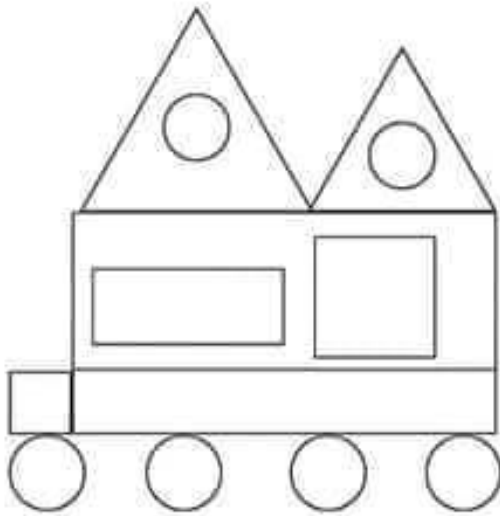
أَكْمِلِ الفَرَاغَاتِ بِالرَّقْمِ المُنَاسِبِ:

عَدَدُ الدَّوَائِرِ هُوَ:

عَدَدُ المُسْتَطِيلَاتِ هُوَ:

عَدَدُ المَثَلَّثَاتِ هُوَ:

عَدَدُ المُرَبَّعَاتِ هُوَ:



التمرين 03:

تَعَرَّفْ عَلَى اسمِ المَجَسِّمِ واكْتُبْهُ:

🌻 أنا مُجَسِّمٌ لَيْسَ لِي أَوْجُهٌ وَلَا أَحْرُفٌ وَلَا رُؤُوسٌ وَأَتَدَخَّرُجُ , مَنْ أَنَا؟

🌻 أنا مُجَسِّمٌ لِي 6 أَوْجُهٌ مُتَمَاثِلَةٌ , 12 حَرْفًا وَ8 رُؤُوسًا , مَنْ أَنَا؟

تقويم الفصل الثالث في مادة الرياضيات (ميدان تنظيم معطيات)

التمرين 01:

لاحظ الجدول ثم أكمل:

معدّل أمين هو:

معدّل هو: 7

التلميذة التي تحصلت على أعلى معدّل هي:

معدّل رائد و مزيم هو:

المعدّل	اسم التلميذ
8	رائد
9	أميرة
7	سامي
8	مريم
6	أمين

التمرين 02:

لاحظ أسعار الخضّر ثم اكتب كلّ سعرٍ في خانته المناسبة:

					
					بصل
					خس
					جزر
				95	طماطم
					بطاطا

95 دينارًا 

62 دينارًا 

70 دينارًا 

35 دينارًا 

57 دينارًا 