


اختبار الفصل الثالث في الرياضيات

النشاط الأول: أنجز العمليات التالية :

$\begin{array}{r} 5 \quad 3 \\ + \quad 2 \\ \hline = \end{array}$	$\begin{array}{r} 4 \quad 0 \\ + \quad 3 \quad 0 \\ \hline = \end{array}$	$\begin{array}{r} 3 \quad 5 \\ + \quad 2 \quad 4 \\ \hline = \end{array}$	$\begin{array}{r} 2 \quad 8 \\ + \quad 5 \quad 1 \\ \hline = \end{array}$
---	---	---	---

النشاط الثاني: أرتب الأعداد التالية ترتيباً تصاعدياً .

63 - 65 - 10 - 89 - 36 - 25



.....
-------	-------	-------	-------	-------	-------

النشاط الثالث: لَوْنُ بِالْأَخْضَرِ الْخَانَةَ الْمُنَاسِبَةَ :

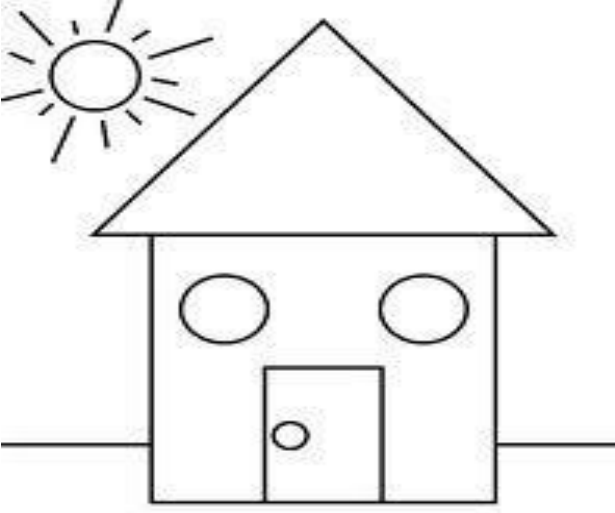
92	أَصْغَرُ مِنْ	10
	أَكْبَرُ مِنْ	

58	أَصْغَرُ مِنْ	85
	أَكْبَرُ مِنْ	

36	أَصْغَرُ مِنْ	25
	أَكْبَرُ مِنْ	

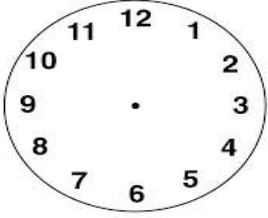
النشاط الرابع: لَوْنِ الدَّوَائِرِ بِالْأَصْفَرِ وَالْمُثَلَّثَاتِ بِالْأَحْمَرِ

و الْمُسْتَطِيلَاتِ بِالْأَزْرَقِ وَالْمُرَبَّعَاتِ بِالْأَخْضَرِ.



النشاط الخامس: خَرَجَ أَحْمَدُ مِنْ مَنْزِلِهِمْ عَلَى السَّاعَةِ السَّابِعَةِ صَبَ

بَعِ الأَدْوَاتِ الْمَدْرَسِيَّةِ فَاشْتَرَى كُرْسِيًّا ثَمَنَهُ 35 دِينَارًا وَقَلَمًا ثَمَنَهُ 10 دَابِير .



1- مِثْلُ بَقْلَمِ الرَّصَاصِ السَّاعَةِ الَّتِي خَرَجَ فِيهَا أَحْمَدُ .

2- حَوِّطْ بِقَلَمِ الرَّصَاصِ عَلَى ثَمَنِ الْكُرْسِيِّ .



3- مَا هُوَ ثَمَنُ الْكُرْسِيِّ وَالْقَلَمِ مَعًا .

العملية العمودية

العملية الأفقية

.....

بالتوفيق إن شاء الله

=

ثَمَنُ الْكُرْسِيِّ وَالْقَلَمِ مَعًا هُوَ :.....ديناراً

