

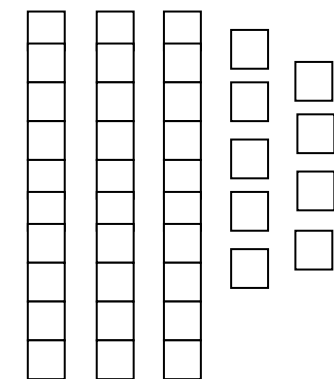
إختبار الفصل الثاني في الرياضيات



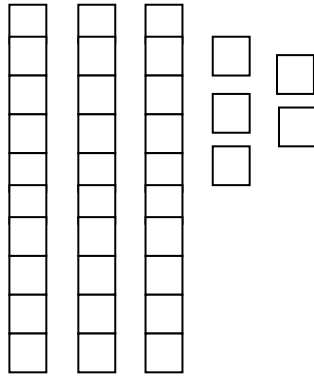
* أساعد الولد ليصعد إلى أعلى الدرج ثم لينزل أيضا :



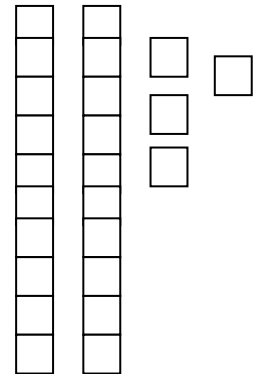
* أحسب ثم أكتب في جدول العشرات و الوحدات :



ع	و
....



ع	و
....



ع	و
....

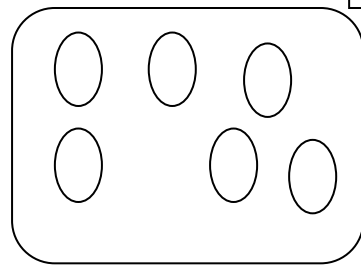
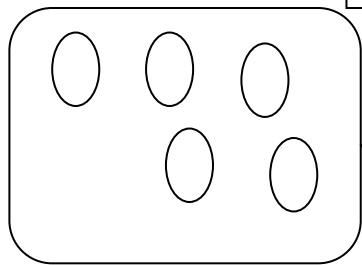
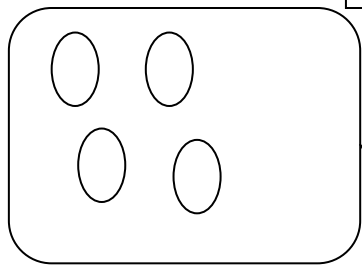
* أكمل رسم الأشكال الناقصة :

ن 1.5

9

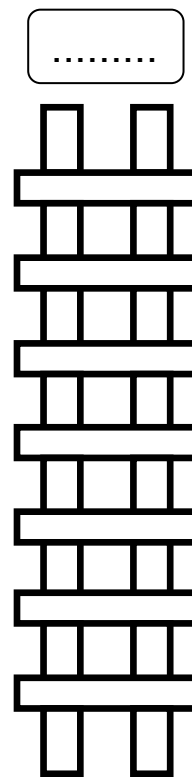
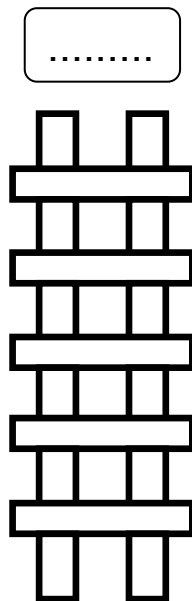
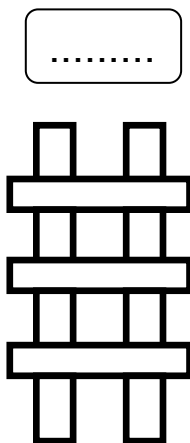
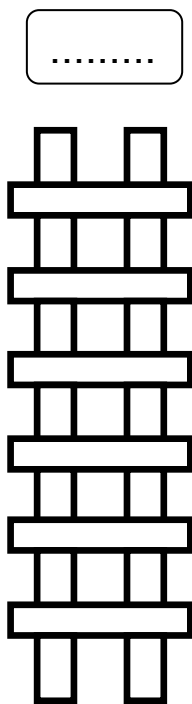
9

9



* رتب هذه السلالم من الأطول إلى الأقصر :

ن 2



ن 1.5

* سيتقاسم الشارف و أمال هاته البرتقالات بالتساوي ، كم سيضع كل واحد منهما من برتقالة في سلته ؟

خديجة :

.....

مجموع البرتقالات هو :

.....

أحمد :

.....

