

## النشاط الاول : 2 ن

بمناسبة عيد ميلاده دعا احمد اصدقاءه وزينوا قاعة الاحتفال

➤ اتامل المشهد :

➤ اللون الاطفال الذين هم على استقامة واحدة

➤ احسب البالونات واكتب العدد



ع	و

## النشاط الثاني : 1.5 ن الون الاجابة الصحيحة



أكبر من
أصغر من
تساوي

50

50

أكبر من
أصغر من
تساوي

25

35

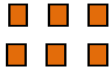
أكبر من
أصغر من
تساوي

10


8

## النشاط الثالث : 1.5 ن اعد واكمل العملية

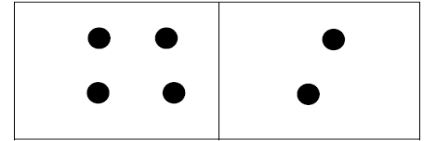
أكمل العملية:



..... + ..... = .....

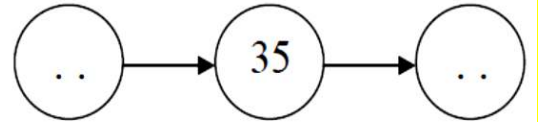
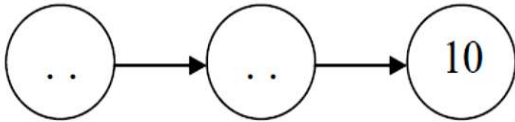


5 + 3 = .



4 + 2 = .

## النشاط الرابع : 2 ن اكمل المتتالية :



## النشاط الخامس : 1.5 ن

1) صل بالمسطرة النقط للحصول على أشكال وسمها



## ابحث : 1.5 ن

غرس رجل 10 أشجار من التفاح و 7 أشجار من الخوخ  
ما هو عدد الأشجار التي غرسها الرجل الون الاجابة الصحيحة

$$10 + 7 = 17$$

$$10 - 7 = 3$$