






اِخْتِيَارُ الْفَصْلِ الثَّانِي فِي الرِّيَاضِيَّاتِ

1 - اربط باستخدام المسطرة بين كل شئين متشابهين: (1.5ن)



2 - لاحظ المجموعة ثم أكمل الجدول: (1.5ن)



الأشياء				
العدد	9

3 - احسب عمليات الجمع و الطرح: (2ن)

$$2 + 1 = \dots\dots\dots$$

$$5 + 3 = \dots\dots\dots$$

$$15 + 5 = \dots\dots\dots$$

$$25 + 5 = \dots\dots\dots$$


$3 - 2 = \dots\dots\dots$

$10 - 1 = \dots\dots\dots$

$20 - 5 = \dots\dots\dots$

$30 - 5 = \dots\dots\dots$

4 - رَتَّبِ الفيلةَ بالأرقام (1-2-3-4) مِنَ الأصغرِ إِلَى الأكبرِ: (ن1)



5 - اُكْتُبِ العَدَدَ السَّابِقَ وَ المُوَالِيَ : (ن2)

→

9	10
---	----	-------

→

.....	25	26
-------	----	----

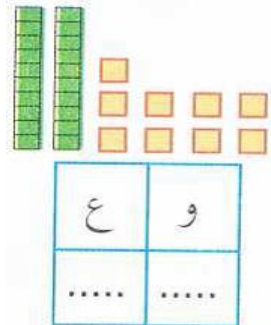
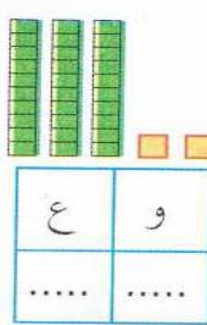
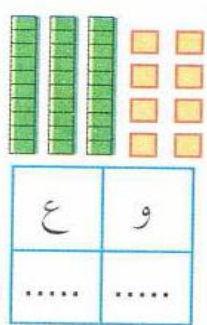
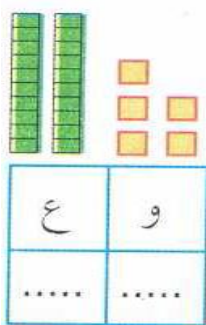
→

32	33
----	----	-------

→

38	40
----	-------	----

6 - اُكْتُبِ رَقْمَ الوَحَدَاتِ وَ العَشْرَاتِ فِي الجَدْوَلِ : (ن2)



امضاء الولي