



ECOLE SALIM



الجمهورية الجزائرية الديمقراطية الشعبية

وزارة التربية الوطنية

مؤسسة التربية والتعليم الخاصة سليم

ETABLISSEMENT PRIVE D'EDUCATION ET D'ENSEIGNEMENT SALIM



www.ets-salim.com



021 87 10 51



021 87 16 89



Hai Galloul - bordj el-bahri alger

إعتماد رقم 67 بتاريخ 06 سبتمبر 2010

مخضيري- ابتدائي- متوسط - ثانوي

رخصة فتح رقم 1088 بتاريخ 30 جانفي 2011

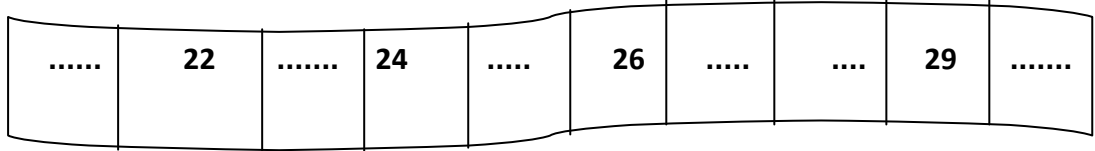
فيفري 2014

المستوى الأول ابتدائي 1AP

الإختبار رقم 2 للفصل الثاني في مادة الرياضيات

النشاط الأول:

أكمل الشريط العددي .



النشاط الثاني: ألون الخانة المناسبة.

11	أكبر من	28
	يساوي	
	أصغر من	

30	أكبر من	15
	يساوي	
	أصغر من	

10+10	أكبر من	20
	يساوي	
	أصغر من	

النشاط الثالث: اكتب العدد المناسب .

10 + 10 + 3	ع	و
	.	.

. + . + .	ع	و
	.	.

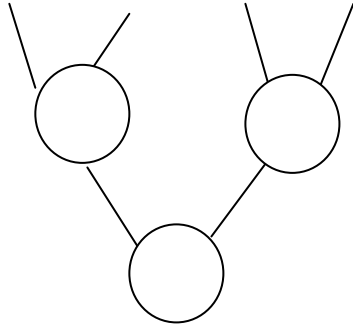
الصفحة 2/1

حي قعلول - برج البحري - الجزائر

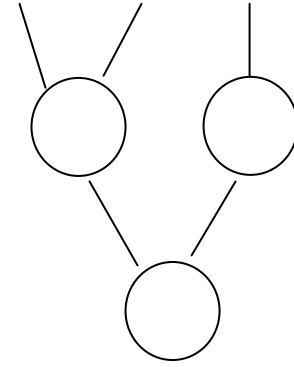
النشاط الرابع:

احسب المجاميع.

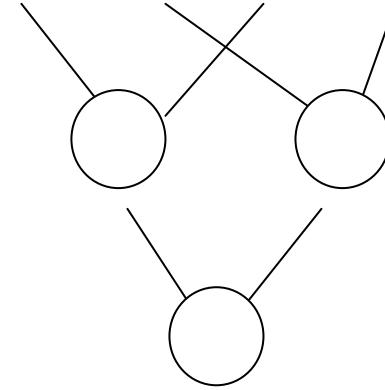
$$9 + 2 + 7 + 3 = .$$



$$4 + 5 + 6 = .$$



$$10 + 8 + 2 + 4 = .$$



النشاط الخامس:

اربط كل كتابة بالعدد المناسب.

$$7+3$$

$$6+4$$

$$10+5$$

13

10

15

$$8+5$$


$$9+6$$

$$7+6$$

بالتوفيق

الصفحة 2/2

حي قعلول - برج البحري - الجزائر



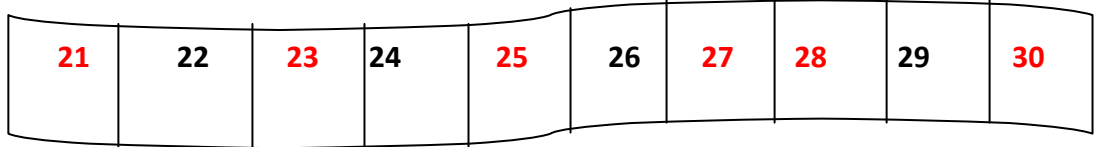
فيفري 2014

المستوى الأول ابتدائي 1AP

تصحيح الاختبار رقم 2 للفصل الثاني في مادة الرياضيات

النشاط الأول (1.5):

أكمل الشريط العددي.



النشاط الثاني (1.5):

ألون الخانة المناسبة.

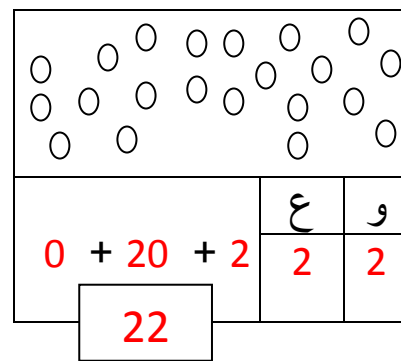
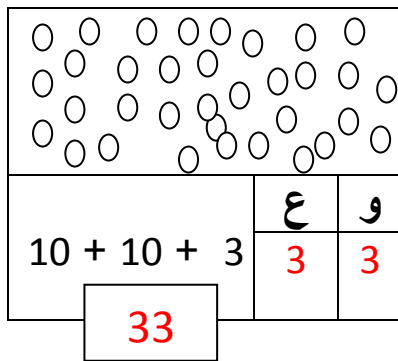
11	أكبر من	28
	يساوي	
	اصغر من	

30	أكبر من	15
	يساوي	
	اصغر من	

10+10	أكبر من	20
	يساوي	
	اصغر من	

النشاط الثالث (2.5):

اكتب العدد المناسب .

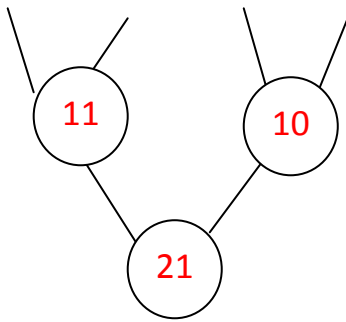


الصفحة 2/1

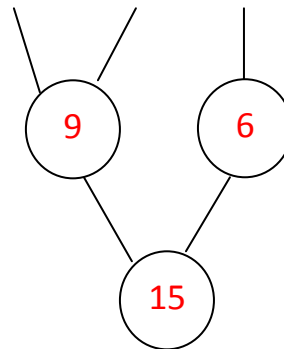
النشاط الرابع (3ن):

احسب المجاميع.

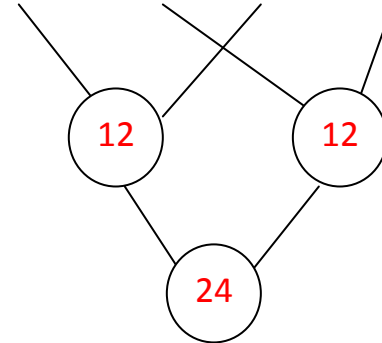
$$9 + 2 + 7 + 3 = .$$



$$4 + 5 + 6 = .$$



$$10 + 8 + 2 + 4 = .$$



النشاط الخامس (1.5ن):

اربط كل كتابة بالعدد المناسب.

$$7+3$$

$$6+4$$

$$10+5$$

$$13$$

$$10$$

$$15$$

$$8+5$$

$$9+6$$

$$7+6$$

الصفحة 2/2

حي فقلول - برج البحري - الجزائر