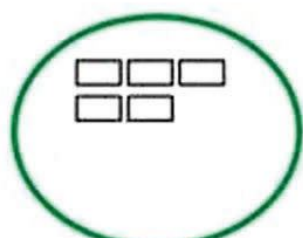



التمرين 1: أكمل رَسَمَ الأشكالِ الناقِصة:

9



7



8

التمرين 2: اكتب العدد الذي يسبق والذي يلي:

...	13	...
-----	----	-----

...	34	...
-----	----	-----

التمرين 3: أكمل ما يلي:

ضعف العدد 8 هو .....

ضعف العدد 6 هو .....

التمرين 4: أحسب ما يلي:

$30 + 9 = \dots$

$18 - 12 = \dots$

$12 + 8 = \dots$

$16 - 10 = \dots$

التمرين 5: مثل الأعداد التالية بالقطع و الأعمدة:

وَحَدَات	عَشْرَات
2	3



وَحَدَات	عَشْرَات
6	2



**تمرين 1:** اكتب الأعداد بالأرقام أو بالحروف:

..... 36

.....14

.....7

..... ثلاثة عشر

..... تسعة وعشرون

..... ثلاثون

**تمرين 2:** أكمل الشريط العددي:

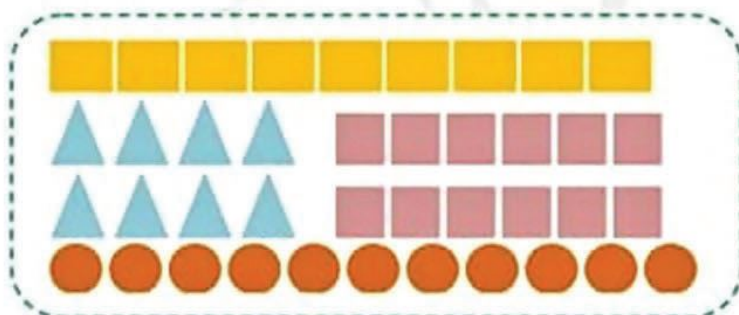
22	...	...	25	...	...	...	29
----	-----	-----	----	-----	-----	-----	----

**تمرين 3:** لاحظ ثم أكمل التجميع و املأ الجدول:

عشرات	آحاد
...	...



**تمرين 4:** لاحظ الأشكال ثم سجل الأعداد في الجدول:



●	■	▲	■	الأشكال
...	...	...	...	الأعداد

**تمرين 5:** قارن ثم لَوّن الخانة المناسبة:

25+10	أصغر من	35	31	أصغر من	13	8	أصغر من	21
	يساوي			يساوي			يساوي	
	أكبر من			أكبر من			أكبر من	

التمرين 1 : اكتب العبارة (أصغر من - أكبر من - يساوي) في المكان المناسب:

$$31 \dots\dots\dots 22$$

$$10+10+10 \dots\dots\dots 30$$

$$8 + 6 \dots\dots\dots 27$$

$$20 \dots\dots\dots 10+10$$

التمرين 2 : أكمل الحساب:

$$19 + 1 = \dots$$

$$30 - 1 = \dots$$

$$10 - 1 = \dots$$

$$39 + 1 = \dots$$

التمرين 3 : اربط بين البطاقات التي تمثل نفس العدد:

60

52

28

41

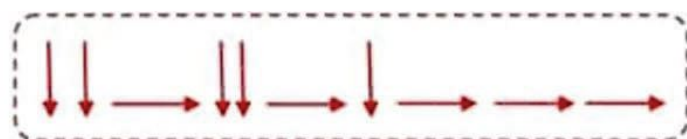

واحد و أربعون

ستون

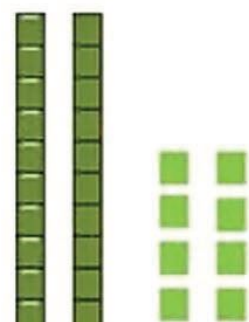
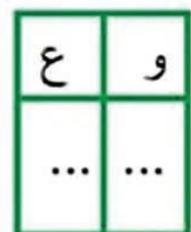
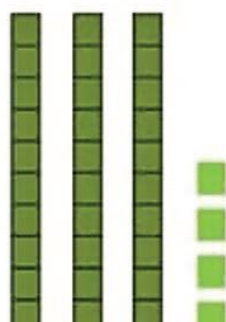
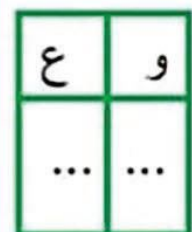

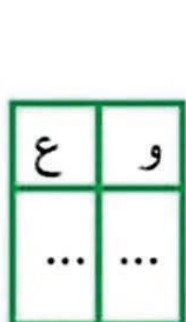
20+20+10+2

30 - 2

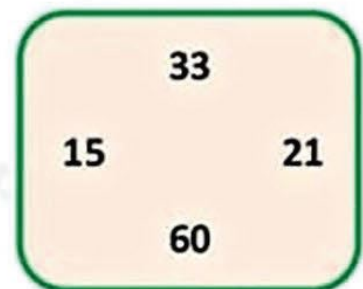
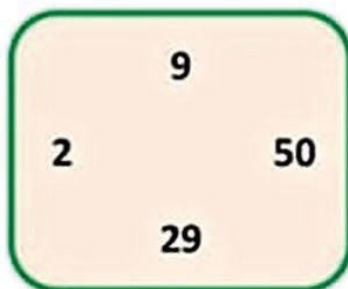
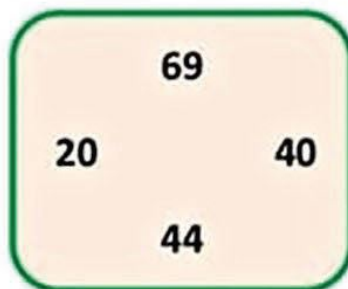
التمرين 4 : ارسم المسلك الذي سيتبعه الفأر ليصل إلى الجبن :



التمرين 5 : أحسب ثم اكتب في جدول الوحدات والعشرات:



التمرين 1: أحط على أكبر عدد و اشطب على أصغر عدد في كل مجموعة:

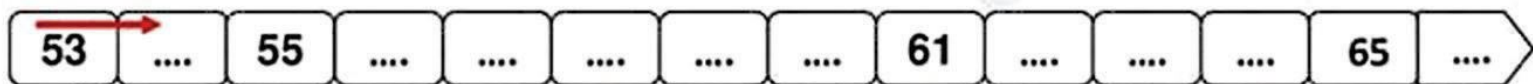


التمرين 2: أحسب كما في المثال:  $16 + 3 = 16 + 1 + 2 = 17 + 2 = 19$

$$25 + 6 = .. + .. + .. = .. + .. = ..$$

$$34 + 8 = .. + .. + .. = .. + .. = ..$$

التمرين 3: أكمل الشريط العددي:



التمرين 4: لاحظ ثمن الأدوات المدرسية، ثم سجل النتائج في الجدول:

الأدوات المدرسية	الثمن
	.....
	.....
	.....
	.....



التمرين 5:

عند آلاء 10 كريات زادت زادت أختها 8 كريات .  
- ما هو عدد كل الكريات؟

$$10 - 8 = 2$$

$$10 + 8 = 18$$

1- لَوْنُ الإجابة الصحيحة.

2- عدد كل الكريات هو..... كرية.

التمرين 1 أكمل الجدول:

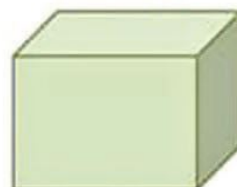
العَدَدُ بِالْأَرْقَامِ	العَدَدُ بِالْحُرُوفِ
37	.....
.....	أَرْبَعَةٌ وَ خَمْسُونَ
88	.....

التمرين 2 : رَتِّبِ الأَعْدَادَ التَّالِيَةَ تَرْتِيبًا تَصَاعُدِيًّا: 45 ، 12 ، 99 ، 36 ، 63

..... ، ..... ، ..... ، ..... ، .....  


التمرين 3 : اِمْلَأِ الجَدُولَ بِمَا يُنَاسِبُ:

.....	السَّادِسَةُ مَسَاءً
02:00	.....
.....	التَّاسِعَةُ صَبَاحًا

التمرين 4 : اَكْتُبِ إِسْمَ كُلِّ شَكْلِ تَحْتَهُ:الوضعية الإدماجية:

يَمْلِكُ عَبْدُ اللَّهِ 40 دِينَارًا ، زَادَهُ أَبُوهُ 35 دِينَارًا .  
 كَمْ صَارَ يَمْلِكُ عَبْدُ اللَّهِ ؟

.....=.....

صَارَ يَمْلِكُ عَبْدُ اللَّهِ ..... دِينَارًا.