

قناة الأستاذ أقدوش فيصل

الجمهورية الجزائرية الديمقراطية الشعبية  
وزارة التربية الوطنية

الاسم : .....  
اللقب : .....

الموسم الدراسي 2021 - 2022

مدرسة بلفروم الحاج

المدة : ساعة و نصف

اختبار الفصل الثاني في مادة الرياضيات

المستوى: السنة الأولى

التمرين الأول: أَكْتُبِ الأَعْدَادَ التَّالِيَةَ بِالْحُرُوفِ:

- 1 - ✕  
2 - ✕  
3 - ✕  
4 - ✕  
5 - ✕

التمرين الثاني: أَرْتِبِ الأَعْدَادَ التَّالِيَةَ عَلَى الشَّرِيطِ:

12 ، 4 ، 10 ، 7 ، 6 ، 9

3	.....	5	.....	.....	8	.....	.....	11	.....
---	-------	---	-------	-------	---	-------	-------	----	-------

التمرين الثالث: - أَلِحِظْ بِطَاقَاتِ الأَعْدَادِ وَ أَلَوْنِ كِتَابَاتِهَا عِنْدَ المَجْمُوعِ بِنَفْسِ اللُّونِ

10 + 5	7 + 5	15
7 + 2	4 + 3	9
5 + 5	6 + 3	10

التمرين الرابع: أَنْجِزِ العَمَلِيَّاتِ التَّالِيَةَ:


$19 - 7 = \dots$

$13 + 6 = \dots$


$17 - 5 = \dots$

$10 + 2 = \dots$

التمرين الخامس: أَكْمِلْ مَايَلِي:




.....



.....



.....



.....