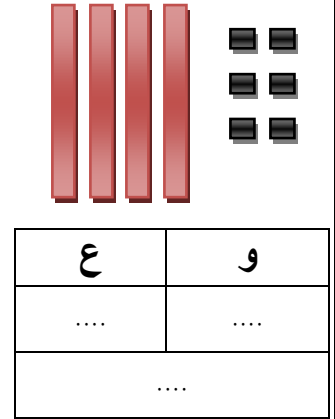
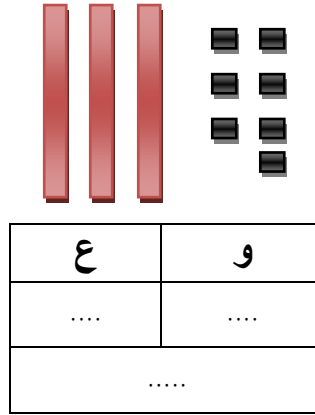
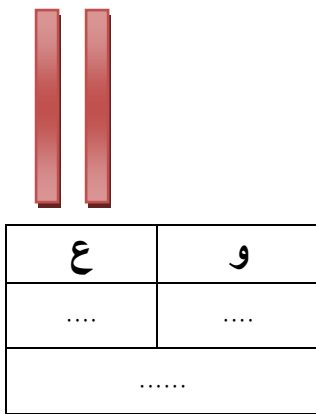


تقويم الفصل الثاني في الرياضيات

النشاط الأول: أكتب الأعداد الممثلة بالأعمدة والوحدات في كل حالة .



النشاط الثاني: أحسب مايلي:

$14+23=.....$

$10+8 =.....$

$19-7=.....$

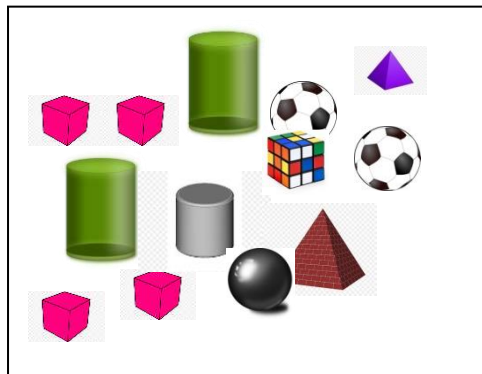
النشاط الثالث: أرتب الأعداد التالية ترتيباً تصاعدياً من الأصغر إلى الأكبر.

$4 - 32 - 52 - 68 - 49 - 23$



.....
-------	-------	-------	-------	-------	-------

النشاط الرابع: لاحظ الشكل وأملأ الفراغات




- عدد المكعبات
- عدد الكرات
- عدد الاسطوانات

- عَدُّ الأهرام

النشاط الخامس: زَارَ أَحْمَدُ جَدَّهُ فِي الْحَقْلِ فَوَجَدَهُ يَغْرِسُ شُجَيْرَاتٍ، فَسَاعَدَهُ وَغَرَسَ مَعَهُ : 12 شُجَيْرَةً زُمَانٍ

و 15 شُجَيْرَةً لَيْمُونٍ وَ 13 شُجَيْرَةً خَوْخٍ .

بَعْدَ مُدَّةٍ ذُبِلَتْ وَمَاتَتْ 5 شُجَيْرَاتٍ لَيْمُونٍ.



1- عَدُّ شُجَيْرَاتِ اللَّيْمُونِ وَالْخَوْخِ الَّتِي غَرَسَاهَا هُوَ : (لون الإجابة الصحيحة)

$$15+13= 28$$

$$15-13= 28$$

$$15+13=29$$

2- عَدُّ شُجَيْرَاتِ اللَّيْمُونِ الَّتِي بَقِيَتْ حَيَّةً هُوَ : (لون الإجابة الصحيحة)

$$15+12=27$$

$$15-5=10$$

$$15+5=20$$

بالتوفيق إن شاء الله

