

إختبار في الرياضيات – الفصل الثاني -


1 (أرسم أقراصا حسب العدد :

65	43	31	27	10

2 (الأخط وأكمل:

45	46								55
----	----	--	--	--	--	--	--	--	----

4 (ألون ثلاثة نجوم موجودة على استقامة واحدة :



3 (أفكك الأعداد إلى عشرات ووحدهات حسب المثال :

$$25 = 10 + 10 + 5$$

$$19 = \dots\dots\dots$$

$$42 = \dots\dots\dots$$

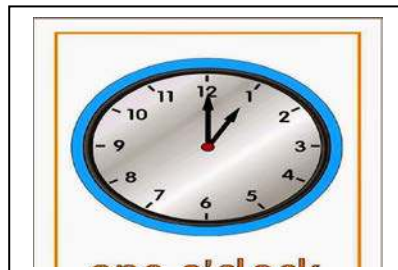
$$34 = \dots\dots\dots$$

الوضعية الإدماجية :

في الحديقة جمعت ليلي 17 زهرة ثم زادت 5 .
ما هو عدد الأزهار التي جمعتها ليلي ؟

جمعت ليلي زهرة .


ألون التوقيت المناسب الذي تشير إليه الساعة :



بعْد الظهْر

13 : 00

01 : 00



الصباح

08 : 00

20 : 00