



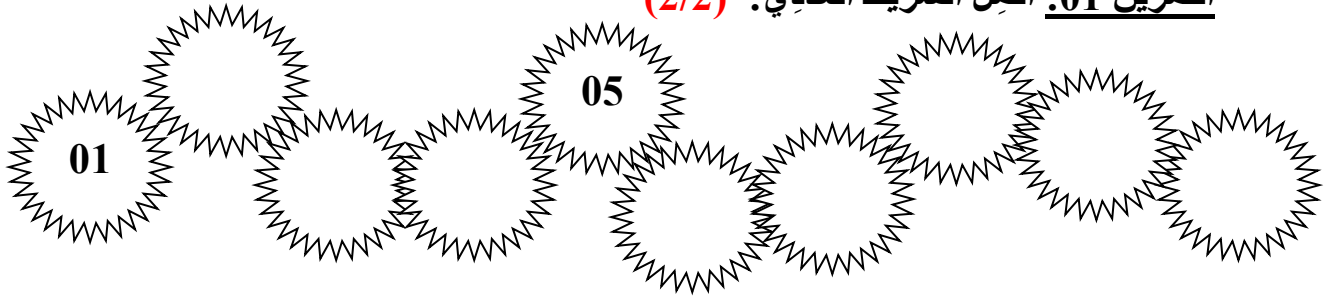
جانفي 2022

المستوى الأولى

فرض منزلي في الرياضيات

الإسم: اللقب: القسم:

التمرين 01: أكمل الشريط العددي: (2/2)



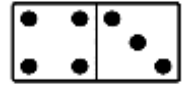


التمرين 02: أربط مع ما يناسب: (1.5/1.5)

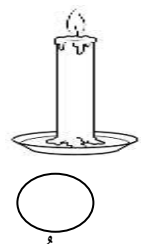
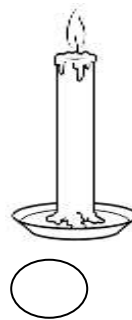
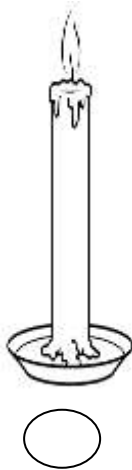
10

4

7



التمرين 03: ألون أطول شمعة بالأحمر و أقصر شمعة بالأصفر: (2/2)



- أرتب الشموع من الأطول إلى الأقصر

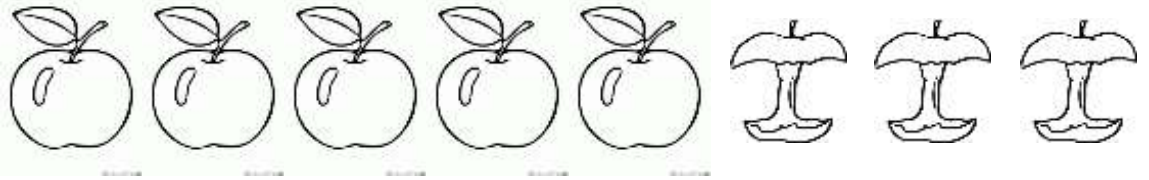
التمرين 04: احسب: (2.5/2.5)

$$4 + 4 = \dots\dots\dots / 9 + 1 = \dots\dots\dots$$

$$5 + 3 = \dots\dots\dots / 1 + 9 = \dots\dots\dots / 2 + 3 = \dots\dots\dots$$

الوضعية الإدماجية: (2/2)

لدى أحمد 8 تفاحات أكل
.....



$$8 - \boxed{\dots} = \text{.....}$$

بقي عند أحمد تفاحات