

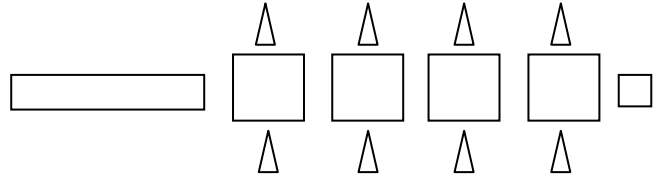


## المستوى :الأولى ابتدائي (1AP) فيفري : 2017

### تقويم رقم (2) للفصل الثاني في مادة الرياضيات

#### التمرين الأول:

أحسب الأشكال ثم أكتب العدد



عدد المثلثات هو: .....

عدد المربعات هو: .....

#### التمرين الثاني:

أكتب بالحروف أو بالأرقام

سبعة عشر: .....

عشرون: .....

10: .....

3: .....

#### التمرين الثالث:


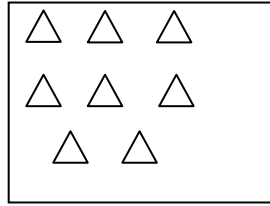
رتب الأعداد من الأصغر إلى الأكبر

12 10 19 16 18 9 14 13

9	.	.	.	14	.	.	.
---	---	---	---	----	---	---	---

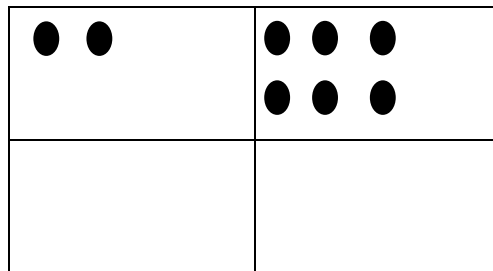
## التمرين الرابع:

لون نصف الأشياء في كل بطاقة



## التمرين الخامس:

رسمت خديجة قريصات أرسم ضعف ما رسمت





## التمرين السادس: أكمل

الأرنب في السطر ..... و في العمود .....

الفيل في السطر ..... و في العمود .....

أرسم قريصة في السطر 4 و في العمود 3

				4
				3
				2
				1
1	2	3	4	

الوضعية الإدماجية: عند أحمد 9 كرية خسر منها 5 كريات .

- كم كرية صارت عند أحمد ؟

صارت عند أحمد .....

## تصحيح تقويم شهر فيفري

### التمرين الأول(ن2)

عدد المثلثات هو: 8 مثلثات.....1ن

عدد المربعات هو: 5 مربعات.....1ن

### التمرين الثاني:( 2 ن )

أكتب بالحروف أو بالأرقام

سبعة عشر: 17 .....0.5ن

عشرون: 20 .....0.5ن

10: عشرة .....0.5 ن

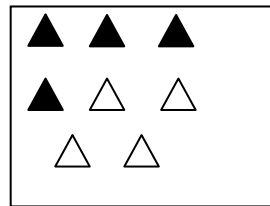
3: ثلاثة .....0.5 ن

### التمرين الثالث:(1.5 ن)

9	10	12	13	14	16	18	19
---	----	----	----	----	----	----	----


### التمرين الرابع (1ن)

لون نصف الأشياء في كل بطاقة



### التمرين الخامس: ( 1 ن )

رسمت خديجة قريصات أرسم ضعف ما رسمت






**التمرين السادس:** أكمل.....(1.5 ن)

الأرنب في السطر الأول و في العمود الثاني .....0.5 ن

الفيل في السطر الثالث و في العمود الثالث.....0.5 ن

أرسم قريصة في السطر 4 و في العمود 3 .....0.5 ن

				4
				3
				2
				1
1	2	3	4	

**الوضعية الإدماجية:**.....(1 ن).

صارت عند أحمد .  $9 - 5 = 4$