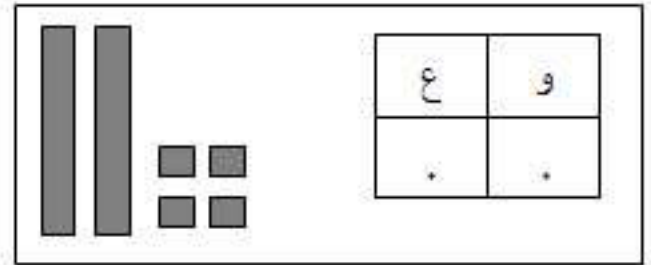
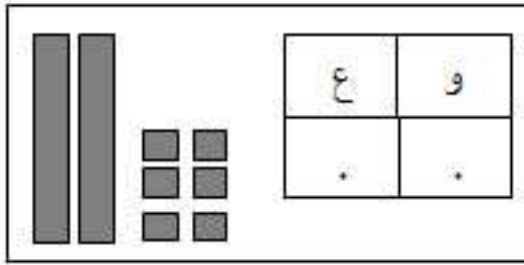


اختبار الثلاثي الثاني في الرياضيات

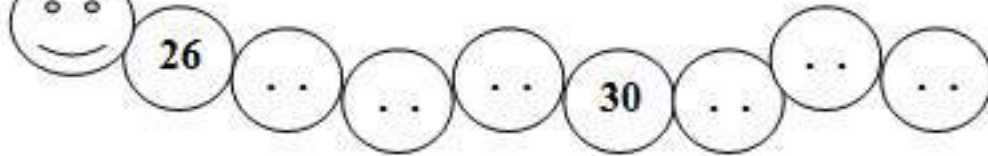
.....: الإسم:

.....: اللقب:

التمرين الأول: ألاحظُ وأكملُ:



التمرين الثاني: أكملُ متتالية الأعداد التالية:



التمرين الثالث: أنجز ما يلي:

$$8 - 3 = \dots\dots$$

$$10 - 2 = \dots\dots$$

$$10 + 3 = \dots\dots$$

$$16 + 2 = \dots\dots$$

التمرين الرابع: أكتبُ العدد الذي يسبق و العدد الذي يلي:

..	17	..
----	----	----

..	38	..
----	----	----

التمرين الخامس: تملك ليلى 10 صُور ، وأهدت لها أمها 8 صور أخرى . كم أصبح عندها؟

$$10 + 8 = 18$$

$$10 - 8 = 2$$

1 - لوّن الإجابة الصحيحة

2 - أصبح عندها : صورة .