

﴿ اختبار الفصل الثاني في مادة الرياضيات ﴾

التَّمْرِينُ الْأَوَّلُ: اكَتُبْ: أَصْغَرُ مِنْ - أَكْبَرُ مِنْ - يُسَاوِي فِي الْمَكَانِ الْمُنَاسِبِ (02 ن)

45..... 54

10+10+4 30

10 + 15..... 25

28..... 26

التَّمْرِينُ الثَّانِي: أَحْسِبْ (02 ن)

41 - 9 =

52 + 9 =

17 - 7 =

13 + 5 =

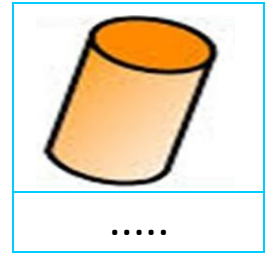
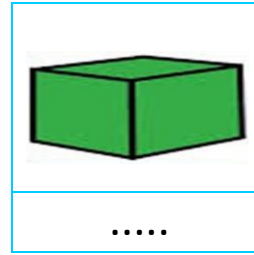
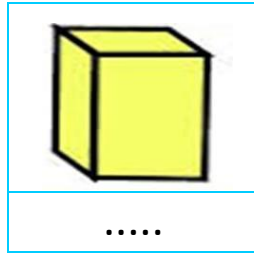

28 - 11 =

36 + 4 =

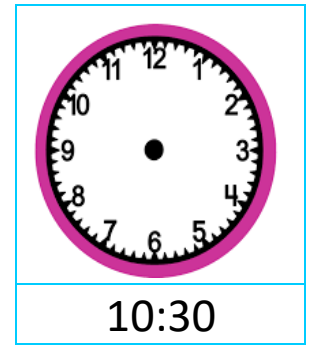
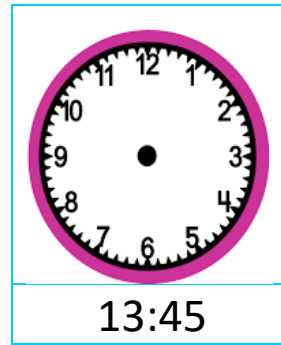
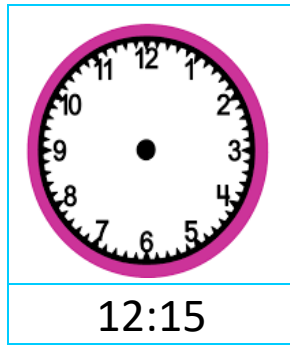
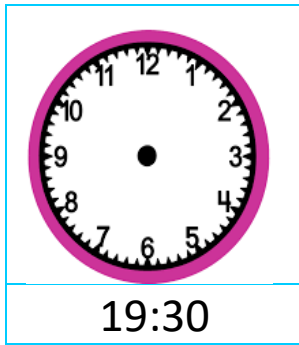
38 - 5 =

27 + 3 =

التَّمْرِينُ الثَّلَاثُ: أَضْعُ: مَكْعَبٌ - بِلَاظَةٌ - هَرَمٌ - أُسْطَوَانَةٌ (02 ن)



التَّمْرِينُ الرَّابِعُ: أَمَثِلُ التَّوْقِيتِ الْمُنَاسِبِ عَلَى السَّاعَةِ (02 ن)



الْوَضْعِيَّةُ الْإِدْمَاجِيَّةُ: (02 ن)

عِنْدَ أَحْمَدَ 7 كُرِّيَّاتٍ، وَعِنْدَ حَمْرَةَ ضِعْفَ مَا عِنْدَ أَحْمَدَ.

- كَمْ كُرِّيَّةً عِنْدَ حَمْرَةَ؟

الْعَمَلِيَّةُ: =

الْجَوَابُ: عِنْدَ حَمْرَةَ كُرِّيَّةً.

تصحيح اختبار الفصل الثاني في مادة الرياضيات

التَّمرينُ الأوَّلُ: اكتبُ: أَصْغَرُ مِنْ - أَكْبَرُ مِنْ - يُسَاوِي فِي الْمَكَانِ الْمُنَاسِبِ (02 ن)

54 أصغر من 45

30 أصغر من $10+10+4$

25 يساوي $10 + 15$

26 أكبر من 28

التَّمرينُ الثَّاني: أَحْسِبُ (02 ن)

$$41 - 9 = 32$$

$$52 + 9 = 61$$

$$17 - 7 = 10$$

$$13 + 5 = 18$$

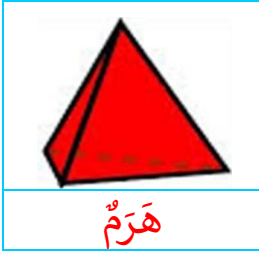
$$28 - 11 = 17$$

$$36 + 4 = 40$$

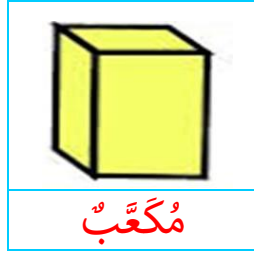
$$38 - 5 = 33$$

$$27 + 3 = 30$$

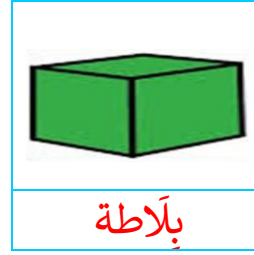
التَّمرينُ الثَّالثُ: أَضِعْ: مَكَّعَبٌ - بِلَاطَةٌ - هَرَمٌ - أُسْطُوَانَةٌ (02 ن)



هَرَمٌ



مَكَّعَبٌ

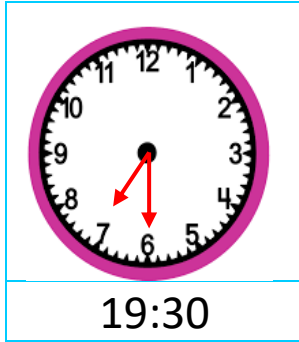


بِلَاطَةٌ

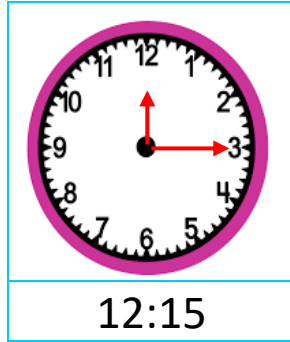


أُسْطُوَانَةٌ

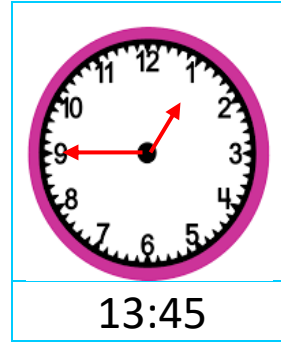
التَّمرينُ الرَّابِعُ: أَمَثِلُ التَّوَقِيتِ الْمُنَاسِبِ عَلَى السَّاعَةِ (02 ن)



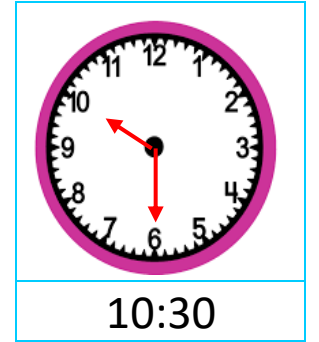
19:30



12:15



13:45



10:30

الْوَضْعِيَّةُ الْإِدْمَاجِيَّةُ: (02 ن)

عِنْدَ أَحْمَدَ 7 كُرِّيَّاتٍ، وَعِنْدَ حَمْرَةَ ضِعْفَ مَا عِنْدَ أَحْمَدَ.

- كَمْ كُرِّيَّةً عِنْدَ حَمْرَةَ؟

$$7 + 7 = 14 \text{ الْعَمَلِيَّةُ:}$$

الْجَوَابُ: عِنْدَ حَمْرَةَ 14 كُرِّيَّةً.