

السنة الدراسية : 2024/2023

ابتدائية : فروم مختار

اسم و لقب التلميذ : .....

## تقويم الفصل الثاني في الرياضيات




1/ ريم عمرها 5 سنوات احتفلت بعيد ميلادها ، فطلبت منها أمها وضع الشموع فوق الكعكة



- كم شمعة ستضع ريم يا ترى ؟ .....



- أرسم على الكعكة هذه الشموع ثم لونها .

2/ في المساء أعدت الأم الحساء ، فأحضرت بعض الخضراوات وطلبت من ريم عددها .




3/ رسمت ريم أشجارا جميلة


- لون أطولها بالأخضر .




4/ طلبت المعلمة من ريم إنجاز الواجب برسم دوائر بقدر العدد المكتوب .



6



2



5