

المستوى: السنة الأولى ابتدائي

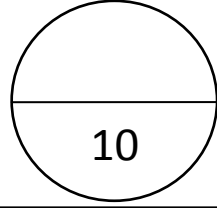
مديرية التربية لولاية أم البواقي

العام الدراسي: 2018 / 2019

ابتدائية:

التاريخ:

الاسم واللقب:



النقطة:

10

اختبار الفصل الثاني في مادة الرياضيات

التمرين الأول: أحسب ما يلي (3 نقاط)

$$9 - 4 = .$$

$$10 + 2 = .$$

$$0 + 0 = .$$

$$7 - 3 = .$$

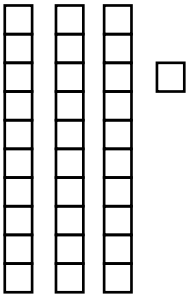
$$10 + 2 = .$$

$$15 + 5 = .$$

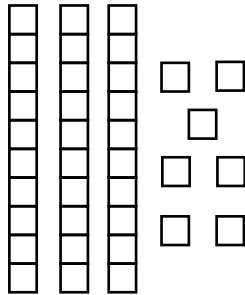
التمرين الثاني: أكمل الأعداد على الشريط العددي (2 نقاط)

20	23	..	25	..	27
----	----	----	----	----	----	----	----

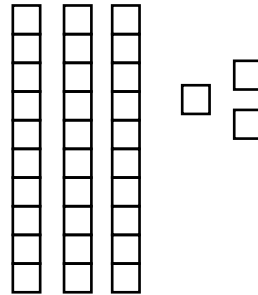
التمرين الثالث: أكتب الأعداد الممثلة بالأعمدة والوحدات في الجدول (3 نقاط)



ع	و
.....	



ع	و
.....	



ع	و
.....	

الوضعية الإدماجية: (3 نقاط)

غرس رجل 8 أشجار من التفاح، ثم زاد 5 أخرى.

- ما هو عدد الأشجار التي غرسها الرجل؟

- لَوّن الإجابة الصحيحة.

$$8 + 5 = 13$$

$$8 - 5 = 3$$