

المادة: الرياضيات

المستوى: الأول ابتدائي

الاسم واللقب:

التاريخ: 2024/03/04

اختبار الفصل الثاني

التمرين الأول:

أكتب العدد الذي يلي والعدد الذي يسبق .

.....	5
-------	---	-------





.....	9
-------	---	-------

.....	34
-------	----	-------

.....	21
-------	----	-------

التمرين الثاني:

أكمل الفراغ بالرقم المناسب، ثم أرسم الدوائر على الدَعَسُوقَةِ حَسَبِ الرِّقْمِ.

			
نِصْفَ الْعَدَدِ 14 هُوَ	نِصْفَ الْعَدَدِ 8 هُوَ	ضِعْفُ الْعَدَدِ 6 هُوَ	ضِعْفُ الْعَدَدِ 3 هُوَ

التمرين الثالث:

أحسب ثم اربط الناتج بكتابتة الحرفية.

$$17 + 2 = \dots\dots\dots$$

$$12 - 5 = \dots\dots\dots$$

$$22 + 4 = \dots\dots\dots$$

$$16 - 3 = \dots\dots\dots$$

سَبْعَةٌ

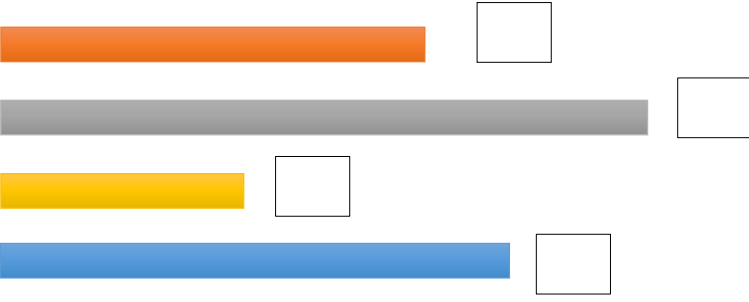
تِسْعَةٌ عَشْرَ

ثَلَاثَةٌ عَشْرَ

سِتَّةٌ وَعَشْرُونَ

التّمرين الرابع:

رتب بالأرقام الأشرطة التّالية من الأقصر إلى الأطول.



الوضعية الإدماجية:

لدى هدى 25 قرينة حمراء، وأعطتها صديقتها سلمى 6 قرينات خضراء - كم عدد القرينات التي تملكها هدى؟

التّمثيل بالقرينات:

$$\dots = \dots$$

تملك هدى قرينة

A large empty rectangular box for drawing or writing.

المادة: الرياضيات

المستوى: الأولى ابتدائي

الاسم واللقب:

التاريخ: 2024/03/04

تصحیح اختبار الفصل الثانی

التمرین الأول:

أكتب العدد الذي يلي والعدد الذي يسبق .

4	5	6
---	---	---




8	9	10
---	---	----

33	34	35
----	----	----

20	21	22
----	----	----

التمرین الثاني:

أكمل الفراغ بالرقم المناسب، ثم أرسم الدوائر على الدَعَسُوقَةِ حسب الرقم.

			
نصف العدد 14 هو 7	نصف العدد 8 هو 4	ضعف العدد 6 هو 12	ضعف العدد 3 هو 6

التمرین الثالث:

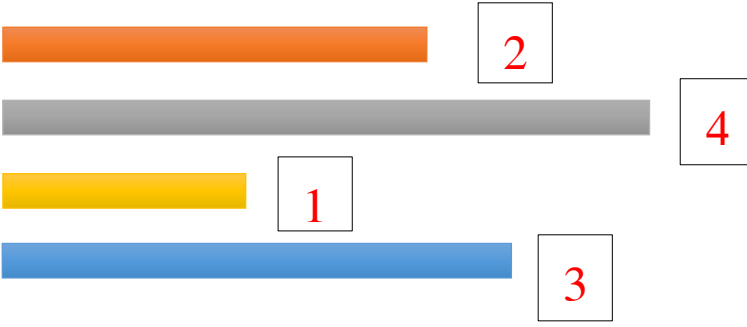
أحسب ثم اربط الناتج بكتابته الحرفية.

$17 + 2 = 19$
$12 - 5 = 7$
$22 + 4 = 26$
$16 - 3 = 13$

سبعة
تسعة عشر
ثلاثة عشر
ستة وعشرون

التّمرين الرابع:

رتب بالأرقام الأشرطة التّالية من الأقصر إلى الأطول.



الوضعية الإدماجية:

لدى هدى 25 قرينة حمراء، وأعطتها صديقته سلمي 6 قرينات خضراء - كم عدد القرينات التي تملكها هدى؟

التّمثيل بالقرينات:

$$25+6=31$$

تملك هدى 31 قرينة

