

## اختبار الرياضيات الفصل الثاني

## التمرين الأول: (2.5ن)

أكتب العدد الذي يسبق والذي يلي:

.....	9	.....
.....	20	.....
.....	32	.....

أربط بين بطاقات الأعداد المتساوية :

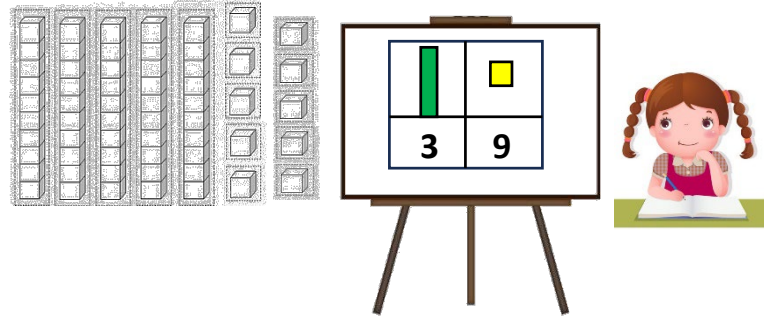
20+6	خَمْسَةٌ وَثَلَاثُونَ	35
30+5	تِسْعَةٌ عَشْرَ	26
10+9	سِتَّةٌ وَعِشْرُونَ	19

أرتب الأعداد من الأصغر إلى الأكبر:

$$35 - 22 - 16 - 7 - 45$$

.....

أساعد أمينة في تلوين الكمية الموجودة على السبورة




## التمرين الثاني: (2ن)

أستعين بالشريط العددي وأنجز ما يلي:

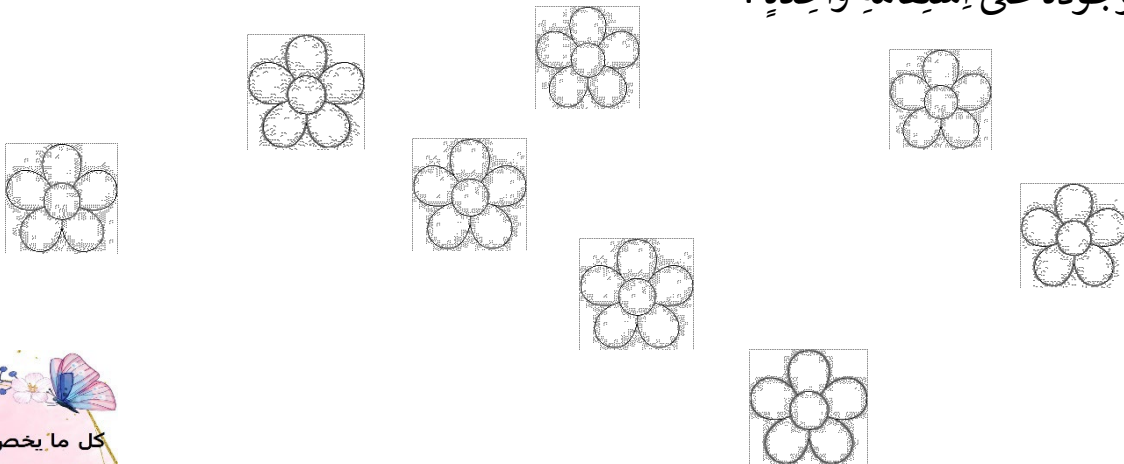
$$25+12=....$$

$$25-12=....$$



## التمرين الثالث: 1ن

ألون الأزهار الموجودة على استقامة واحدة:



التمرين الرابع: (ن2)

أزبط الصورة مع التوقيت الصحيح :

مُنْتَصَفُ اللَّيْلِ

مُنْتَصَفُ النَّهَارِ



السَّابِعَةُ وَنِصْفُ صَبَاحًا

السَّابِعَةُ وَنِصْفُ مَسَاءً



التمرين الخامس : (ن2.5)

تَمْلِكُ يَا سَمِينُ عِقْدًا فِيهِ 32 جَوْهَرَةً .

انْقَطَعَ عِقْدُهَا وَسَقَطَتْ مِنْهُ 6 جَوَاهِرَ .

كَمْ جَوْهَرَةً بَقِيَتْ فِي الْعِقْدِ؟

الْعَمَلِيَّةُ : .....

الْجَوَابُ: بَقِيَ فِي الْعِقْدِ .....جَوْهَرَةً .

