



الجمهورية الجزائرية الديمقراطية الشعبية

وزارة التربية الوطنية

مؤسسة التربية و التعليم الخاصة **سليم**

ETABLISSEMENT PRIVE D'EDUCATION ET D'ENSEIGNEMENT SALIM



www.ets-salim.com



021 87 10 51



021 87 16 89



Hai Galloul - bordj el-bahri alger

رخصة فتح رقم 1088 بتاريخ 30 جانفي 2011

مخضيري- ابتدائي- متوسط - ثانوي

إعتماد رقم 67 بتاريخ 06 سبتمبر 2010

المستوى : الأولى ابتدائي (1AP) مارس : 2017

اختبار الفصل الثاني في مادة الرياضيات

التمرين الأول :(ن2)

اكمل لتحصل على متتالية عددية

		10
--	--	----

	25	
--	----	--

19		
----	--	--

21		
----	--	--

التمرين الثاني :

1/ اكتب بالاعداد أو بالحروف.....(ن2)


- 18 :

- خمسة و ثلاثون :

- 23 :

- إثنان و ثلاثون :

2/ لَوْن النّجْمَة الثّانية و السّابعة(ن1)



حي قعلول - برج البحري - الجزائر

Web site : www.ets-salim.com /021.87.16.89 -الفاكس : 021.87.10.51

التمرين الثالث:.....(ن1)

أضع * أكبر من * / * أصغر من * أو * يساوي *

$$9 \dots\dots\dots 4 + 5$$

$$10 \dots\dots\dots 8 - 1$$

$$23 \dots\dots\dots 32$$

$$17 \dots\dots\dots 14$$

التمرين الرابع:.....(ن1)

أكمل بالعبرة الصحيحة: " ضعف " أو " نصف "

$$9 \dots\dots\dots 18$$

$$12 \dots\dots\dots 6$$

$$10 \dots\dots\dots 5$$

$$7 \dots\dots\dots 14$$

الوضعية الإدماجية

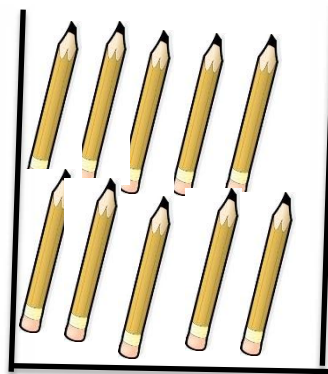

عند منى 35 قلم ملون، تريد أن تضع كل 10 أقلام في علبة. ساعدها في ذلك و أجب :

1/ على كم علبة تحصلت منى ؟

_ تحصلت منى على علب .

2/ كم قلم بقي خارج العلب ؟

_ بقي خارج العلب أقلام .



التصحيح

<p>0,25 2 0,25 2 0,25 2 0,25 2</p>	<p>.....24 -25 -268 - 9 - 1019 - 20 - 2121- 22 - 23</p>	<p>التمرين الاول</p>
<p>0,5 0,5 0,5 0,5 0,5 /2</p>	<p>18 ثمانية عشر 35 خمسة و ثلاثون 23 ثلاثة و عشرون 32 إثنان وثلاثون تلوين</p>	<p>التمرين الثاني</p>
<p>0,25 0,25 0,25 0,25</p>	<p>يساوي..... اصغر من..... اكبر من..... اصغر من.....</p>	<p>التمرين الثالث</p>
<p>0,25 0,25 0,25 0,25</p>	<p>9 ضعف 18 3 ضعف 6 10 ضعف 5 7 ضعف 14</p>	<p>التمرين الرابع</p>
<p>1,5 1,5</p>	<p>منى على علب تحصات بقي خارج العلب 5 اقلام</p>	<p>الوضعية</p>