
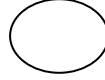
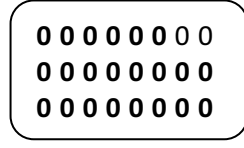
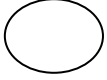



التَّمرينُ الأوَّلُ: أكْمِلْالتَّمرينُ الثَّاني: رَتِّبْ تصاعديًّا

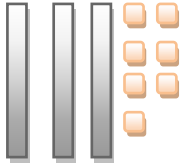
10 ، 2 ، 5 ، 6 ، 12 ، 8

..... ، ..... ، ..... ، ..... ، ..... ، .....

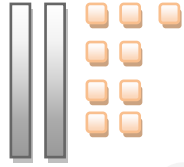
التَّمرينُ الثَّالثُ: أكْمِلِ الشَّرِيْطَ

16

.....

التَّمرينُ الرَّابِعُ: أكْمِلْ مَا يَلِي:

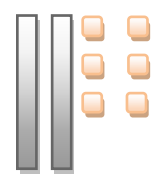
|   |   |
|---|---|
| ع | و |
|   |   |



|   |   |
|---|---|
| ع | و |
|   |   |



|   |   |
|---|---|
| ع | و |
|   |   |



|   |   |
|---|---|
| ع | و |
|   |   |

## التَّمرينُ الخامس: أحسب

$36 + 1 = \dots\dots\dots$

$20 + 7 = \dots\dots\dots$

$10 + 8 = \dots\dots\dots$

$5 + 5 = \dots\dots\dots$

## التَّمرينُ السادس: رتِّبْ : 4 - 3 - 2 - 1

