

الجمهورية الجزائرية الديمقراطية الشعبية
وزارة التربية الوطنية

الإسْمُ :
اللقْبُ :

الموسم الدراسي 2021/2020

مدرسة بلفروم الحاج

المدة : ساعة و نصف

اختبار في مادة الرياضيات

المستوى: السنة الأولى ابتدائي

التمرين الأول: أكمل كتابة الأعداد على الشريط:

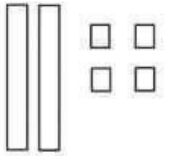

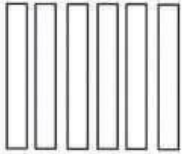
19	25
----	-------	-------	-------	-------	-------	----	-------	-------	-------

التمرين الثاني: رتب الأعداد التالية ترتيبا تصاعديا (من الأصغر إلى الأكبر

45 ، 36 ، 17 ، 23 ، 11 ، 5



التمرين الثالث : أكمل مايلي:



.....
.....

.....
.....

.....
.....

.....
.....

التمرين الرابع: أنجز العمليات التالية:

$$25 + 5 = \dots\dots$$

$$27 + 3 = \dots\dots$$

$$56 + 4 = \dots\dots$$

$$36 - 4 = \dots\dots$$

$$34 - 6 = \dots\dots$$

$$28 - 3 = \dots\dots$$

التمرين الخامس: أوجد ضعف ونصف الأعداد التالية:

نصفه	ضعفه	العدد
.....	8
.....	12

التمرين السادس: أكمل مايلي:

