

إبتدائية المجاهد وكراف الحبيب

المستوى : السنة الأولى ابتدائي

السنة الدراسية: 2022 - 2023

## اختبار الفصل الثاني في الرياضيات

التمرين الأول (2ن) : أحسب ما يلي :

$5 + 8 = \dots$

$24 + 23 = \dots$

$9 - 0 = \dots$

$8 - 4 = \dots$

التمرين الثاني (2ن) : أكتب الأعداد بالحروف أو بالأرقام :

..... : 2

..... : 9

وَاحِد وَ ثَلَاثُونَ : .....

خَمْسَةَ عَشَرَ : ....

التمرين الثالث (2ن) : أكمل ملاً الجدول التالي :

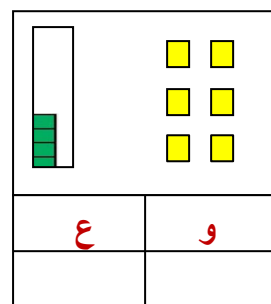
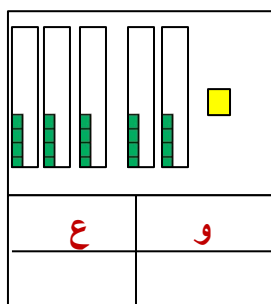
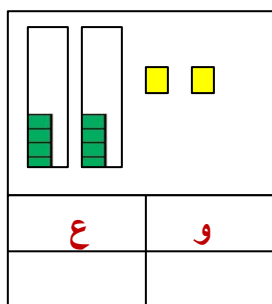
الثمن	الفاكهة
.....	الْبُرْتُقَالَة
.....	.....
.....	الثَّفَاحَة

المَوْزَة : 70 دينار

الثَّفَاحَة : 80 دينار

الْبُرْتُقَالَة : 40 دينار

التمرين الرابع (1.5 ن) : أكتب الأعداد المُتمثلة بالأعمدة و الوحدات في كلّ خانة :



الوضعية الإدماجية (2.5 ن) : أكمل شريط الأعداد :

عِنْدَ مَرِيْمَ 10 حَبَّاتِ تَمْرٍ ، أَكَلَتْ مِنْهَا 7 حَبَّاتِ

- ما هو عدد الحَبَّاتِ الباقية عِنْدَ مَرِيْمَ ؟

..... = .....

عدد الحَبَّاتِ الباقية هو : .....