

| | | |
|------------------------------|-------------------------|---------------------|
| السنة : الأولى (أ - ب - ج) | امتحان الفصل الثاني في: | ابتدائية: أم لجين |
| السنة الدراسية: 2016/2017 | الرياضيات | الاسم واللقب: |

التمرين 1: أحسب العمليات التالية:

$9 - 0 = \dots$

$8 - 2 = \dots$

$6 + 4 = \dots$

$7 + 3 = \dots$

التمرين 2: أكمل ما يلي:

ضعف 8 هو :

نصف 10 هو:

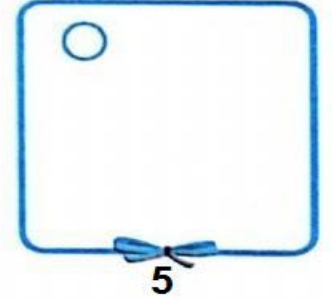
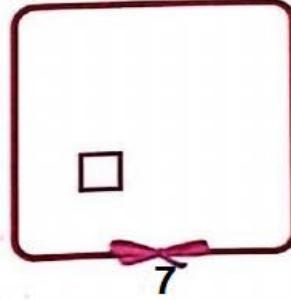
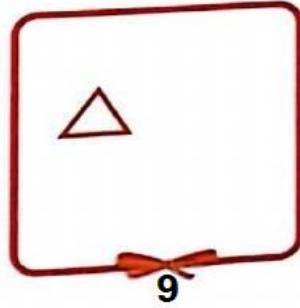

ضعف 7 هو :

نصف 6 هو :

التمرين 3: أكمل الشريط العددي:


| | | | | | | | | | |
|----|----|----|----|----|----|----|----|----|----|
| 26 | .. | 28 | .. | .. | .. | 32 | .. | .. | 35 |
|----|----|----|----|----|----|----|----|----|----|

التمرين 4: أكمل الرسم حسب العدد المطلوب:



التمرين 5: أحط كل عشرة أزهار في دائرة ثم املء الجدول الموالي:

| | |
|---|---|
| ع | ا |
| | |



التمرين 6: لون الشريط الطويل بالأزرق ، و الشريط القصير بالأحمر:

