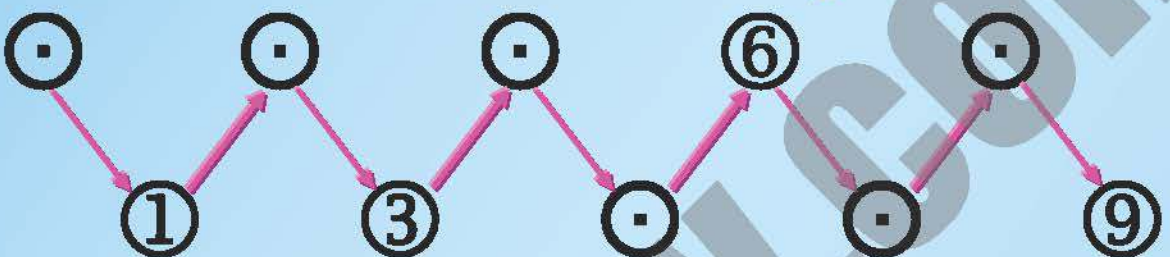


النموذج الأول للاختبار الثلاثي الثاني

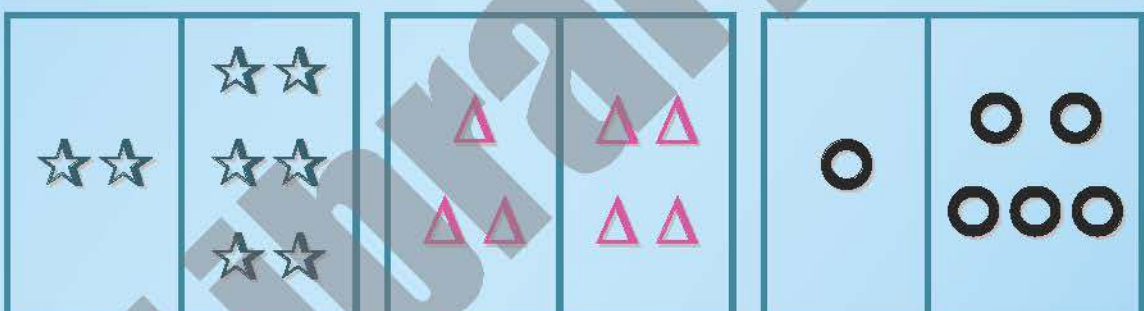
التعريف الأول: أكتب العدد الذي يسبق و العدد الذي يلي .

	8			6			4			1	
--	---	--	--	---	--	--	---	--	--	---	--

التعريف الثاني: ألاحظ وأكمل .



التعريف الثالث: ألاحظ وأصِلُّ كل بطاقة بالكتابة الجمعية المناسبة .



$$3 + 4$$

$$2 + 6$$

$$1 + 5$$

التعريف الرابع: أرْتَبُ الأعداد من الأصغر إلى الأكبر .

3 - 8 - 6 - 5 - 4 - 0 - 1 - 9 - 7 - 2

--	--	--	--	--	--	--	--	--	--

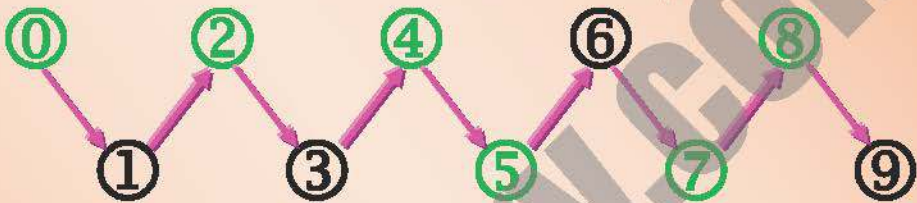


النموذج الأول للاختبار الثلاثي الثاني

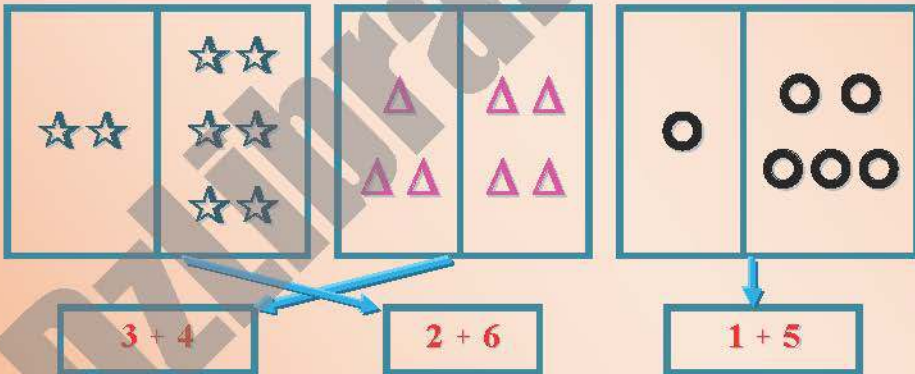
التعريف الأول : أكتب العدد الذي يسبق و العدد الذي يلي .



التعريف الثاني : ألاحظ وأكمل .



التعريف الثالث : ألاحظ وأصل كل بطاقة بالكتابة الجمعية المناسبة .



التعريف الرابع : أرتب الأعداد من الأصغر إلى الأكبر .

