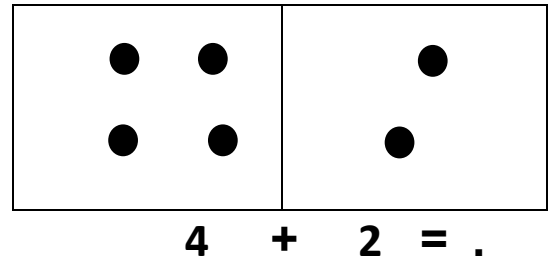
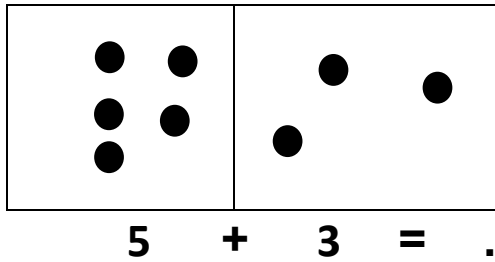


## اختبار الفصل الثاني في الرياضيات


التمرين الأول: أكمل شريط الاعداد

26	..	..	..	..	..	32
----	----	----	----	----	----	----

التمرين الثاني: ألاحظ ثم أكمل



التمرين الثالث: أكون العشرات ثم أملأ الجدول



العشرات	الوحدات
.....	.....
.....	

التمرين الرابع: أقارن ثم ألون الخانة المناسبة

35	أكبر من	50
	أصغر من	
	يساوي	

41	أكبر من	13
	أصغر من	
	يساوي	

42	أكبر من	42
	أصغر من	
	يساوي	

امضاء الولي