

1- أكمل الشريط العددي: (1ن)

20	25	29
----	-------	------	------	------	----	------	-----	------	----

2- ضع العدد الذي يسبق والذي يلي: (1ن)

.....	35
.....	10

3- أنجز العمليات الآتية: (2ن)

$34+5=.....$	$17+3=.....$	$8 - 4 = ...$	$10-5=$
--------------	--------------	---------------	----------------

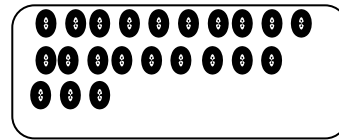


4- اكتب العددين ثم املا الفراغات في كل جدول: (1.5ن)

	و	ع
.....

	و	ع
.....

	و	ع
.....

5- اربط كل بطاقة بالعدد المناسب لها: (1.5ن)



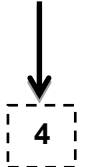
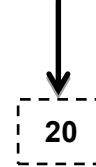
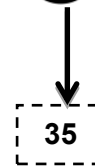
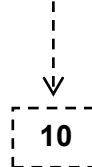
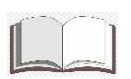
22

26

33

6- اكتب أسعار الأدوات في الجدول: (2ن)

	دينار/ج.....
	دينار/ج.....
	دينار/ج.....
	دينار/ج.....



7- اكتب كما في المثال: (1ن)

$35 = 10 + 10 + 10 + 5$
$25 = ... + +$