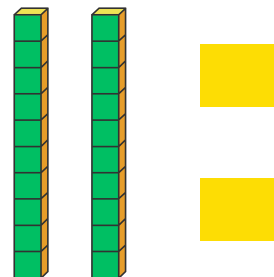
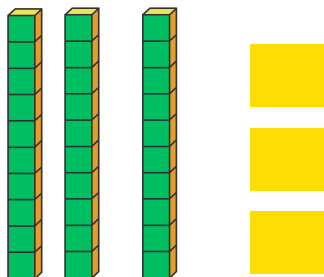
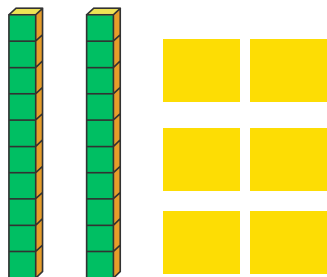




اكتب العدد في الجدول

الوضعية 1



ع

و

.....

.....

ع

و

.....

.....

ع


و

.....

.....

حوظ كل عشرة نجوم في مجموعة

الوضعية 2



ع

و

.....

.....

اكتب عدد النجوم في جدول الوحدات والعشرات



الأستاذ أمين للإبتدائي



الرياضيات
المرور الى العشرة

السنة الأولى إبتدائي

احسب العمليات التالية

الوضعية 1

$10 + 1 = \dots$

$29 + 1 = \dots$

$19 + 1 = \dots$

$9 + 1 = \dots$

$40 - 1 = \dots$

$29 - 1 = \dots$

$19 - 1 = \dots$

$10 - 1 = \dots$

اكتب العدد الذي يسبق والذي يلي

الوضعية 2

..... 22

..... 15

..... 8

..... 29

..... 27

..... 35

أكمل الحساب كما في المثال

الوضعية 3

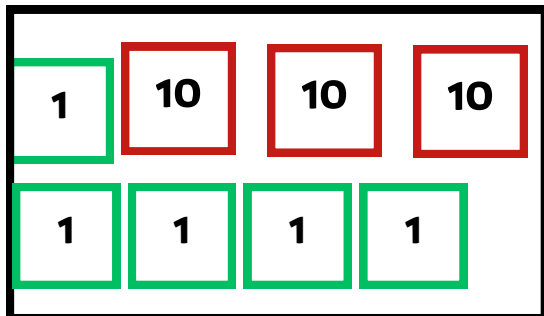
$17 + 6 = 17 + 3 + 3 = 20 + 3 = 23$

$29 + 4 = \dots + 1 + 3 = \dots + 3 = \dots$

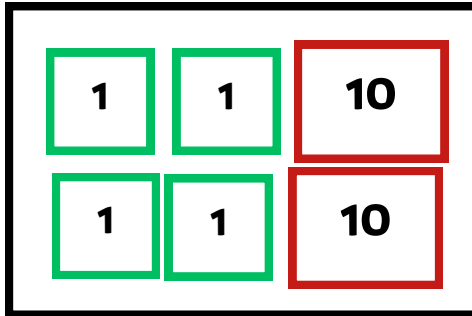
$33 + 3 = \dots + 3 + 3 = \dots + 6 = \dots$

اكتب العدد المناسب

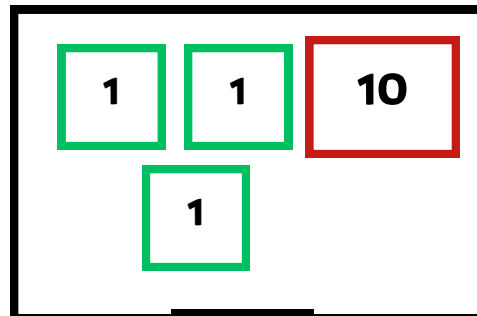
الوضعية 1



.....



.....



.....

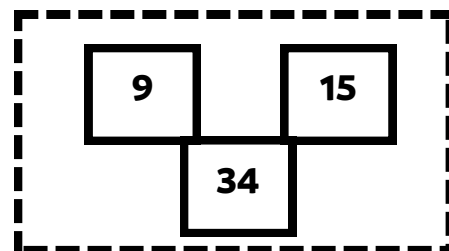
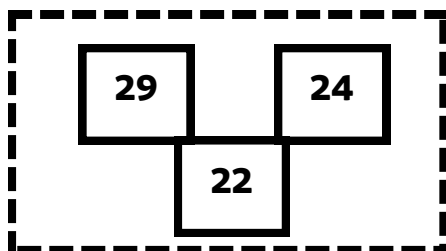
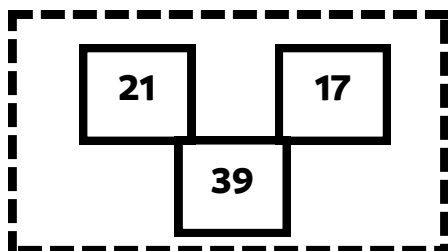
رتب الاعداد التالية من الأكبر الى الأصغر 20 ، 8 ، 13 ، 36 ، 25



..... ، ، ، ،

لون العدد الكبير الاحمر والعدد الصغير بالاخضر في كل مجموعة

الوضعية 2



عين الاعداد التي تسبق و التي تلي او المحصورة بين عددين

الوضعية 3

