


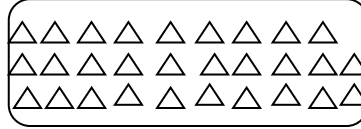
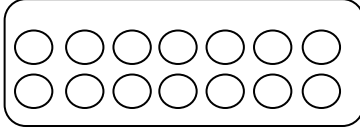
المستوى: الأولى ابتدائي					مدرسة: نعيمة رشيدة				
السنة الدراسية: 2023/2022					الاسم واللقب:				
اختبار الفصل الثاني في مادة الرياضيات									
30	35	39

النشاط الثاني : ضع العدد الذي يسبق و الذي يلي

.....	10
-------	-----------	-------

.....	28
-------	-----------	-------

النشاط الثالث: اربط كل بطاقة بالعدد المناسب لها



29

21

14

النشاط الرابع : أنجز العمليات الآتية :

$33+5=$	$24+13=$	$9 - 4=$	$27 - 5=$
---------------	----------------	----------------	-----------------

النشاط الخامس : أملأ الفراغ في كل جدول

ع	و
.....

ع	و
.....

ع	و
.....

الوضعية الإدماجية :

اشترى خالد كراسا ب 32 دينارا و مقلمة ب 15 دينارا .

كم دفع خالد للمكتبي ؟

$$\begin{array}{r}
 \text{.....} \\
 \text{.....} \\
 \hline
 \text{.....}
 \end{array}$$

دفع خالد دينارا للمكتبي

بالتوفيق