



الجمهورية الجزائرية الديمقراطية الشعبية

وزارة التربية الوطنية

مؤسسة التربية و التعليم الخاصة **سليم**

ETABLISSEMENT PRIVE D'EDUCATION ET D'ENSEIGNEMENT **SALIM**

www.ets-salim.com 021 87 10 51 021 87 16 89 Hai Galloul - bordj el-bahri alger

رخصة فتح رقم 1088 بتاريخ 30 جانفي 2011

مخضيري- ابتدائي- متوسط - ثانوي

إعتماد رقم 67 بتاريخ 06 سبتمبر 2010

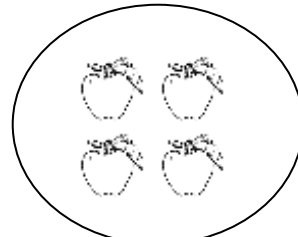
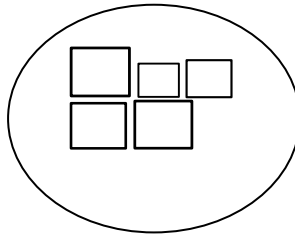
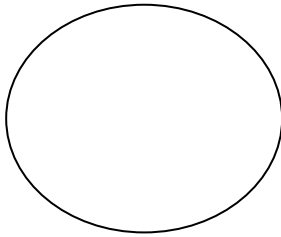

المستوى: الأول ابتدائي (1AP) جانفي 2016

الفرض رقم 1 للفصل الثاني في مادة الرياضيات

التمرين 1: أكمل الشريط العددي . (1.5 ن )

.	7	.	.	10	..	12	..	..
---	---	---	---	----	----	----	----	----

التمرين 2: أعد ثم أصل بالعدد المناسب . (2 ن)



6	2	3
---	---	---

4	0	2
---	---	---

3	2	5
---	---	---

1	5	4
---	---	---

التمرين الثالث: أكمل بعدد مناسب (1.5 ن )

3 أصغر من .....

5 أكبر من .....


10 يساوي .....

الصفحة 2/1

حي فقلول - برج البحري - الجزائر

Web site : [www.ets-salim.com](http://www.ets-salim.com) /021.87.16.89 : الفاكس - Tel-Fax : 021.87.10.51

التمرين الرابع: أجمع بالعشرات و أكمل الجدول : (1.5 ن)



العشرات	الوحدات
.	.

التمرين الخامس: أرتب هذه الأعداد من الأصغر إلى الأكبر. (2 ن)


3- 7- 0 – 2

.	.	.	.
---	---	---	---

5 – 1 – 4 -6

.	.	.	.
---	---	---	---

التمرين السادس: ألون الأشياء التي لها نفس الشكل بلون واحد . (1.5 ن)



بالتوفيق

الصفحة 2/2

حي فعلول - برج البحري - الجزائر

Web site : [www.ets-salim.com](http://www.ets-salim.com) /021.87.16.89 -الفاكس : 021.87.10.51 :☎

## تصحیح اختبار الرياضيات

جانفي: 2016


المستوى :

الأولى ابتدائي

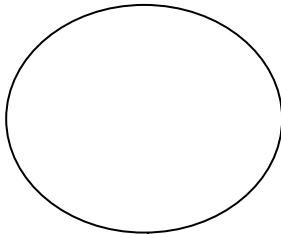
التمرين 1: أكمل الشريط العددي . (1.5 ن)

6	7	8	9	10	11	12	13	14
---	---	---	---	----	----	----	----	----

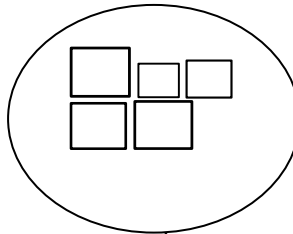
التمرين 2: أعد ثم أصل بالعدد المناسب . (2 ن)



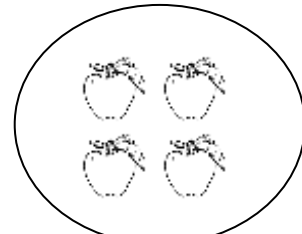
6	2	3
---	---	---



4	0	2
---	---	---



3	2	5
---	---	---



1	5	4
---	---	---

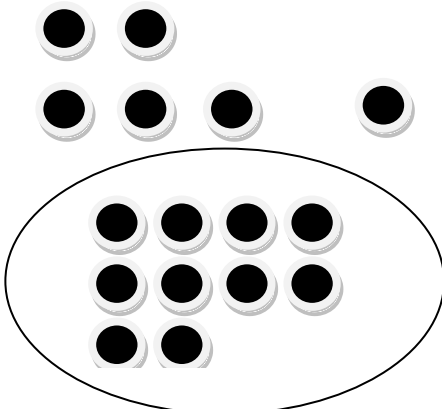
التمرين الثالث: أكمل بعدد مناسب (1.5 ن)

3 أصغر من 4.

5 أكبر من 0.

10 يساوي 10.

التمرين الرابع: أجمع بالعشرات و أكمل الجدول : (1.5 ن)



العشرات	الوحدات
1	5

حي فعلول - برج البحري - الجزائر

التمرين الخامس : أرتب هذه الأعداد من الأصغر إلى الأكبر. (2 ن)

3- 7- 0 – 2

0	2	3	7
---	---	---	---

5 – 1 – 4 -6

1	4	5	6
---	---	---	---

التمرين السادس : ألون الأشياء التي لها نفس الشكل بلون واحد . (1.5 ن)

