

المستوى: الأول الابتدائي (1AP) فبرج 2015

أخبار رقم (2) للفصل الثاني في مادة الرياضيات

التمرين الأول: أربط بين كل عددين متساويين .

15

30+8

38

12+3

40

40+0

التمرين الثاني: اقرن ثم اللون الاجابة الصحيحة

30+2 = .	اكبر من	38
	يساوي	
	اصغر من	

20+10 = .	اكبر من	24+6 = .
	يساوي	
	اصغر من	

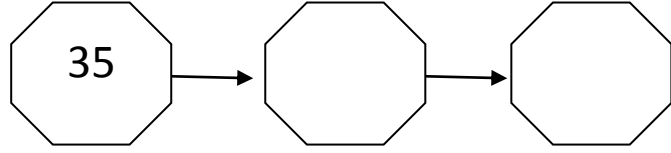
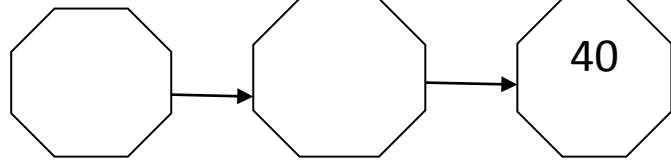
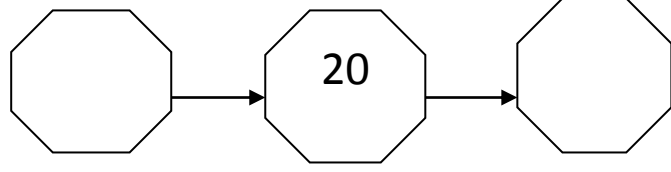
19+3 = .	اكبر من	18+2 = .
	يساوي	
	اصغر من	

التمرين الثالث: أرتب الأعداد التالية من الأكبر إلى الأصغر.

22 - 40 - 33 - 27 - 5 - 14

..
----	----	----	----	----	---

التمرين الرابع: أكمل للحصول على أعداد متتالية



التمرين الخامس:

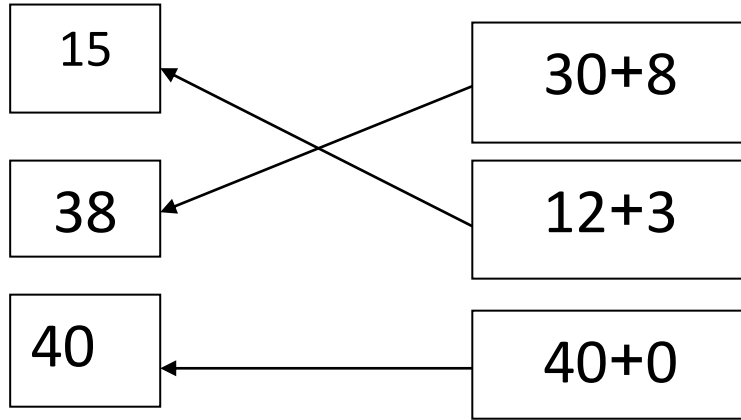
أرسم ثلاث أزهار تكون على استقامة واحدة

التمرين السادس: أكمل الجدول التالي

..	..+.	10+10+10+5
28	..+.	..+..+..+.
..	20+3	..+..+.

تصحیح الاختبار الشهري في مادة الرياضيات

التمرين الأول : أربط بين كل عددين متساويين . (1.5ن)



التمرين الثاني: اقرن ثم اللون الاجابة الصحيحة(2ن)

30+2=32	اكبر من	38
	يساوي	
	اصغر من	

20+10=30	اكبر من	24+6=30
	يساوي	
	اصغر من	

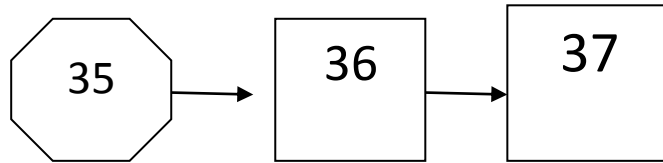
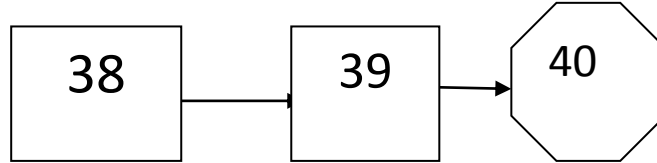
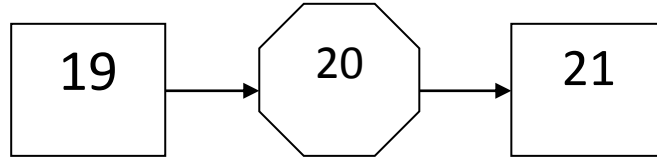
19+3=22	اكبر من	18+2=20
	يساوي	
	اصغر من	

التمرين الثالث: أرتب الأعداد التالية من الأكبر إلى الأصغر . (1.5ن)

14 - 5 - 27 - 33 - 40 - 22.




40	33	27	22	14	5
----	----	----	----	----	---

التمرين الرابع: أكمل للحصول على أعداد متتالية (1.5ن)



التمرين الخامس: (0.5ن)

أرسم ثلاث أزهار تكون على استقامة واحدة

التمرين السادس: أكمل الجدول التالي (3ن)

35	$30+5$	$10+10+10+5$
28	$20+8$	$10+10+8$
33	$30+3$	$10+10+10+3$