














































اختبار الفصل الثاني في نشاط: الرياضيات

1- أكمل كِتَابَةَ رُتْبَةِ الْحَيَوَانِ فِي عَرَبَاتِ الْقِطَارِ: (1ن)



			
.....	.....	.....	.....

2- أَشْطَبُ الْأَشْيَاءِ الزَّائِدَةُ: (2ن)





8										
6										
9										
5										

3- اسْتَعْمَلِ الْعُصَيَّةَ الصَّغِيرَةَ لِقِيَاسِ طُولِ الشَّرِيْطِ الْأَبْيَضِ وَالْأَسْوَدِ: (1ن)

طُولُ الشَّرِيْطِ الْأَبْيَضِ هُوَ: ..... عُصَيَّاتٍ

طُولُ الشَّرِيْطِ الْأَسْوَدِ هُوَ: ..... عُصَيَّاتٍ

4- أكمل كتابة رقم السطر و العمود: (2ن)

4				
3				
2				
1				
	1	2	3	4

موجود في السطر: ..... و العمود: .....



موجود في السطر: ..... و العمود: .....











موجود في السطر: ..... و العمود: .....



موجود في السطر: ..... و العمود: .....



5- لاحظ المثال ثم أكمل رسم نصف عدد القرصات: (2ن)

6- أحسب عمليات الجمع: (1ن)

$$2 + 1 = \dots\dots\dots$$

$$10 + 5 = \dots\dots\dots$$

$$6 + 4 = \dots\dots\dots$$

$$4 + 4 = \dots\dots\dots$$

7- أحسب عمليات الطرح: (1ن)

$$15 - 5 = \dots\dots\dots$$

$$3 - 1 = \dots\dots\dots$$

$$8 - 4 = \dots\dots\dots$$

$$10 - 4 = \dots\dots\dots$$