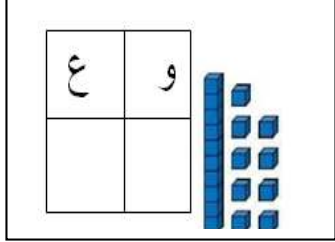
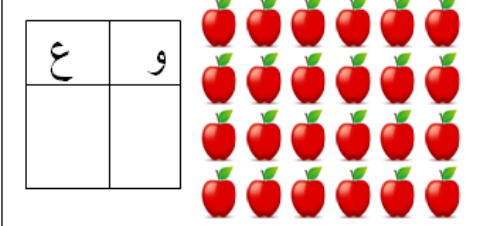
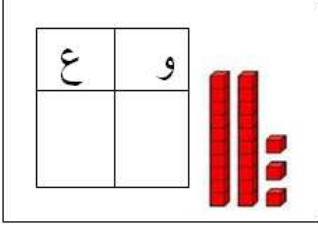


التمرين الأول (1.5ن): أكمل كتابة الأعداد على الشريط العددي.

23	27	31
----	-------	-------	-------	----	-------	-------	-------	----

التمرين الثاني (1.5ن): أملأ الجدول في كل حالة.

		
-----------------------------------------------------------------------------------	------------------------------------------------------------------------------------	-------------------------------------------------------------------------------------

التمرين الثالث (2 ن): اكتب الأعداد بالأرقام أو بالحروف :

.....:9	إثنان و ثلاثون:
.....:20	ثمانية عشر:

التمرين الرابع (1.5 ن): هذه معلومات لأسعار الأدوات المدرسية .

الأدوات المدرسية	التمن
المبراة
الممحاة
المقص

- سجل هذه المعلومات في الجدول .



التمرين الخامس (2 ن): أحسب ما يلي.

$10 + 6 = \dots$	$5 - 1 = \dots$
$22 + 8 = \dots$	$17 - 6 = \dots$

السنة الدراسية : 2024 / 2023
الأستاذة محمد الشريف نريمان
المستوى : الأولى ابتدائي

اختبار الفصل الثاني في
مادة الرياضيات

ابتدائية: الشهيد بونوارة ميلود
الإسم واللقب:

التمرين السادس 1.5ن:

عند رائد 9 كُرِّيَّات ، أعطى منها 4 كُرِّيَّاتٍ لِأَمِين .

كَمْ كُرِّيَّةً بَقِيَتْ عِنْدَ رَائِدٍ؟

العمليةُ

.....

بَقِيَتْ عِنْدَ رَائِدٍ.....كُرِّيَّاتٍ.