




اللقب:

الاسم:

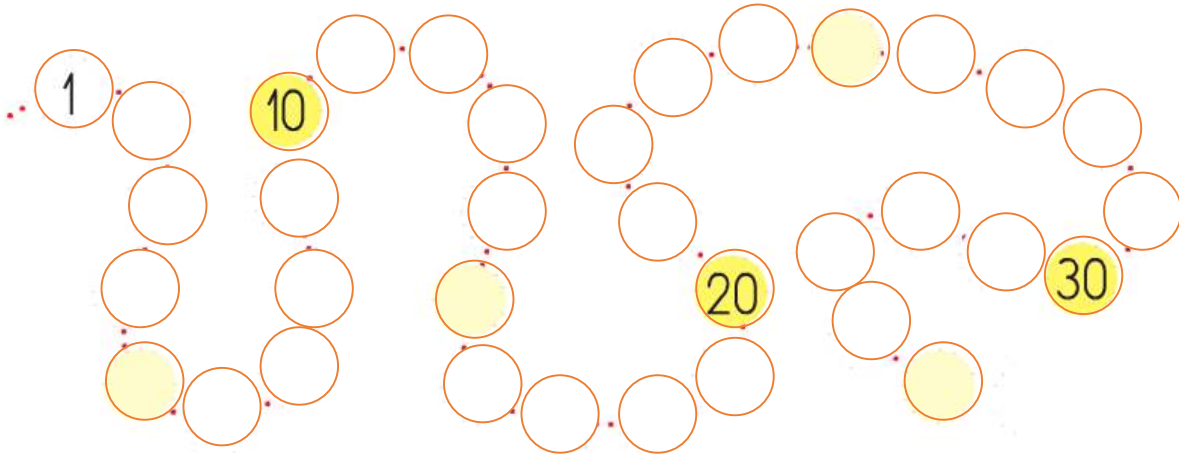
① لاحظ الأشكال وأكمل الجدول

العدد	الأشكال
	
	
	



② ضع الأعداد الآتية في مكانها المناسب


8                      13                      19                      25                      26                      33



③ أحسب مايلي

$13+2=$	$7-3=$	$29+1=$	$5-2=$
$10+5=$	$10-3=$	$25+4=$	$15-2=$
$9+8=$	$12-4=$	$23+5=$	$25-2=$

④ أكتب الأعداد في كل حالة



٥ رتب الأعداد الآتية من الأصغر إلى الأكبر



٦ اقرأ وأكتب الأعداد الآتية بالأرقام


ستة عشر ..... أربعة وعشرون ..... ثلاثة وعشرون ..... تسعة عشر .....  
 خمسة وثلاثون ..... اثنان ..... أربعة عشر ..... سبعة وثلاثون .....

٧ مثل بالأسهم مسلك الدجاجة إلى بيضها






الوضعية الإدماجية



■ عند سدره أزهاراً وَضَعْتَهَا فِي مَزْهَرِيَّةٍ . سَاعِدْهَا فِي إِجَادِ عِدْدِهَا .

عدد الأزهار هو : .....

■ أعطت أخاها 3 أزهاراً ، كم بقي معها ؟

العملية : .....

بقي معها .....