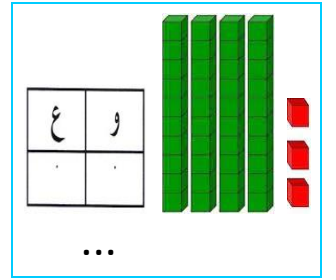
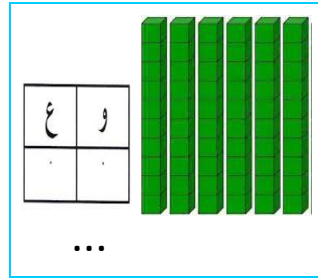
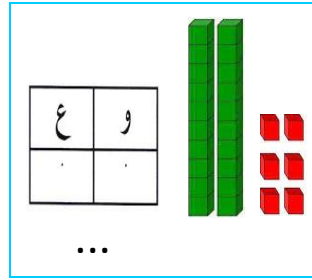
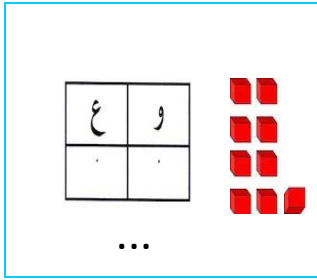


﴿ اختبار الفصل الثاني في مادة الرياضيات ﴾

التَّمْرِينُ الْأَوَّلُ: اكَتُبِ الْأَعْدَادَ بِالْأَرْقَامِ أَوْ الْحُرُوفِ (02 ن)

- 28 :
- 50 :
- تِسْعَةٌ وَعِشْرُونَ :
- سَبْعَةٌ وَسِتُّونَ :

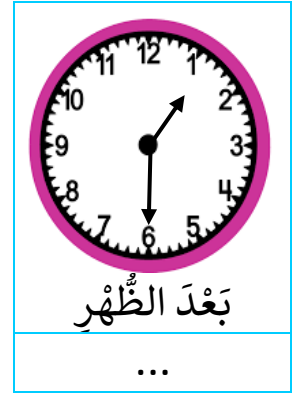
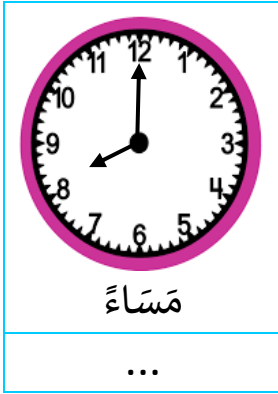
التَّمْرِينُ الثَّانِي: اكْمِلْ مَا يَلِي: (02 ن)



التَّمْرِينُ الثَّلَاثُ: اكْمِلِ الشَّرِيْطَ الْعَدَدِيَّ (02 ن)

28 29 .. 31 32 33 36 .. 38 39 40 44 .. 46

التَّمْرِينُ الرَّابِعُ: اكَتُبِ التَّوْقِيْتَ الَّذِي تُشِيرُ إِلَيْهِ السَّاعَةُ (02 ن)



الْوَضْعِيَّةُ الْإِدْمَاجِيَّةُ: (02 ن)

يَتَكَوَّنُ قِسْمُ السَّنَةِ الْأُولَى ابْتِدَائِيٍّ مِنْ 15 تَلْمِيذَةً وَ 20 تَلْمِيذًا.

- مَا هُوَ عَدَدُ تَلَامِيذِ قِسْمِ السَّنَةِ الْأُولَى؟

الْعَمَلِيَّةُ: =

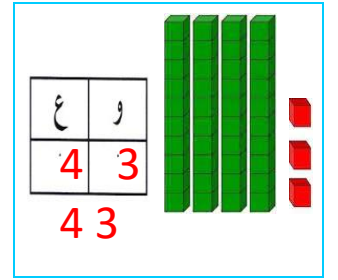
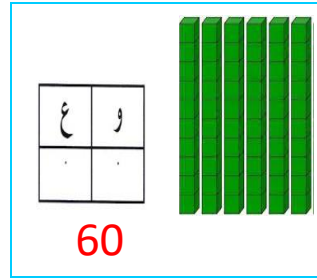
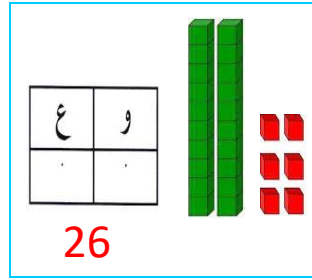
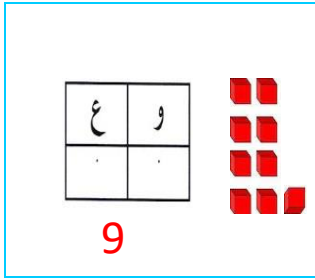
الْجَوَابُ: عَدَدُ تَلَامِيذِ قِسْمِ السَّنَةِ الْأُولَى هُوَ تَلْمِيذًا.

تصحيح اختبار الفصل الثاني في مادة الرياضيات

التَّمْرِينُ الْأَوَّلُ: اكَتُبِ الْأَعْدَادَ بِالْأَرْقَامِ أَوْ الْحُرُوفِ (02 ن)

- 28: ثَمَانِيَّةٌ وَعِشْرُونَ
- 50: خَمْسُونَ
- 29: تِسْعَةٌ وَعِشْرُونَ
- 67: سَبْعَةٌ وَسِتُّونَ


التَّمْرِينُ الثَّانِي: اكْمِلْ مَا يَلِي: (02 ن)



التَّمْرِينُ الثَّلَاثُ: اكْمِلِ الشَّرِيْطَ الْعَدَدِيَّ (02 ن)

28 29 30 31 32 33 34 35 36 37 38 39 40 41 42 43 44 45 46

التَّمْرِينُ الرَّابِعُ: اكَتُبِ التَّوْقِيْتَ الَّذِي تُشِيرُ إِلَيْهِ السَّاعَةُ (02 ن)



الْوَضْعِيَّةُ الْإِدْمَاجِيَّةُ: (02 ن)

يَتَكَوَّنُ قِسْمُ السَّنَةِ الْأُولَى ابْتِدَائِي مِنْ 15 تَلْمِيذَةً وَ 20 تَلْمِيذًا.

- مَا هُوَ عَدَدُ تَلَامِيذِ قِسْمِ السَّنَةِ الْأُولَى؟

الْعَمَلِيَّةُ: $20 + 15 = 35$

الْجَوَابُ: عَدَدُ تَلَامِيذِ قِسْمِ السَّنَةِ الْأُولَى هُوَ 35 تَلْمِيذًا.