

أكتب بالأرقام أو بالحروف

الوضعية 1

..... خَمْسَةٌ وَعِشْرُونَ

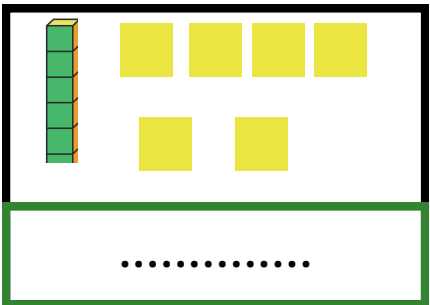
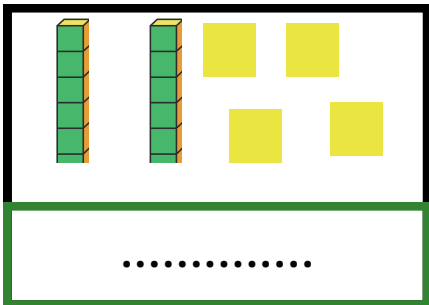
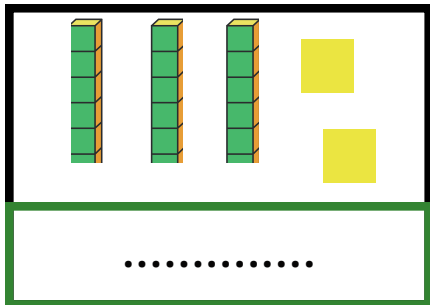
..... سِتَّةٌ وَثَلَاثُونَ

..... 16

..... 27

أكتب الأرقام الممثلة بقطع الوحدات والاعمدات العشرات

الوضعية 2



هات ضعف ونصف الأعداد التالية


الوضعية 3

ضعفه
العدد	2	4	6	8	10
نصفه

12 ، 36 ، 8 ، 31 ، 15 ، 22

رتب الأعداد التالية تنازليا

الوضعية 4



..... ، ، ، ، ،

الوضعية الإدماجية

تَمَلِكُ مَرْيَمُ 17 حُشِيْبَةً زَدَهَا الْمُعَلِّمُ 6 حُشِيْبَاتٍ

- كَمَ أَصْبَحَ عِنْدَ مَرْيَمَ مِنْ حُشِيْبَةٍ ؟

العملية: =

- أَصْبَحَ عِنْدَ مَرْيَمَ

