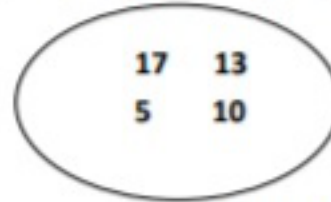
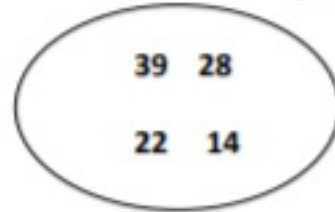
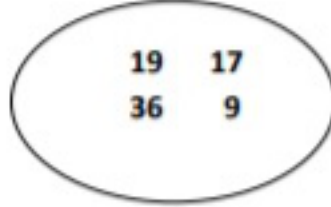


إختبار الفصل الثاني في مادة الرياضيات

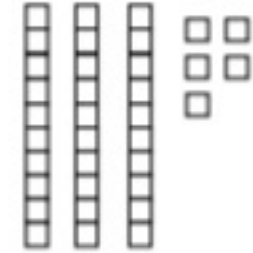
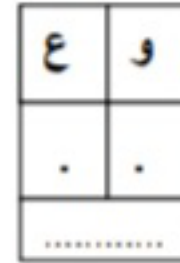
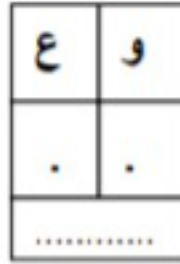
التمرين الأول: ضع دائرة على أكبر عدد في كل مجموعة.



التمرين الثاني: أكمل الشريط العددي:



التمرين الثالث: اكتب الأعداد الممثلة بالأعمدة والفوهات في الجدول:



التمرين الرابع: أكتب ما يلي:

$8 + 3 = \dots$

$19 - 5 = \dots$

$16 + 7 = \dots$

$4 - 0 = \dots$

الوضعية الإنمائية:

غرس أحمد 8 أشجار من التفاح و غرست خديجة 5 أشجار أخرى.

ما هو عدد الأشجار المغروسة؟

لون الإجابة الصحيحة

$8 + 5 = 13$

$8 - 5 = 3$

عدد الأشجار المغروسة هو: شجرة.