


اختبار الفصل الثاني في مادة الرياضيات

التمرين الأول 2.5 نقطتان: أعدْ ثمَّ أَمَلْ الفَرَاغَ بِمَا يُنَاسِبُ:



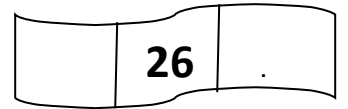
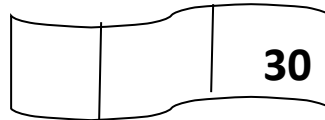
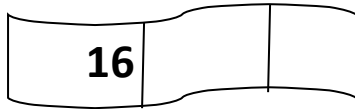
العَشْرَات	الوَحَدَات
.	.

أَكْمِلْ مَلءَ الفَرَاغِ : ..... + ..... + ..... = 25

التمرين الثاني 2.5 نقاط: أَرْتِبْ الأَعْدَادَ التَّالِيَةَ مِنَ الأَكْبَرِ إِلَى الأَصْغَرِ

15 ، 21 ، 7 ، 32

- أَكْمِلْ بِكِتَابَةِ العَدَدِ الَّذِي يَسْبِقُ أَوْ الَّذِي يَلِي أَوْ المَخْصُورِ:



التمرين الثالث 2 نقطتان: أَرَسِّمُ المَسَلِّكَ الَّذِي تَصِلُ بِهِ الفَرَاشَةَ إِلَى الزَّهْرَةِ



التمرين الرابع 3 نقاط: أَحْسِبْ وَأَكْمِلْ المُسَاوِيَاتِ :

9 - 6 = .....      12 + 23 = .....      36 + 11 = .....



بالتوفيق صغاري