

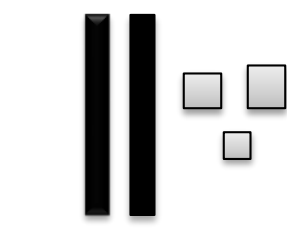


نموذج -1- في الرياضيات:

اختبار الفصل الثاني في مادة الرياضيات:

التمرين الاول: اكتب الاعداد الممثلة بالاعمدة والوحدات في كل حالة:

																				
<table border="1"><tr><td>ع</td><td>و</td></tr><tr><td></td><td></td></tr><tr><td colspan="2"></td></tr></table>	ع	و					<table border="1"><tr><td>ع</td><td>و</td></tr><tr><td></td><td></td></tr><tr><td colspan="2"></td></tr></table>	ع	و					<table border="1"><tr><td>ع</td><td>و</td></tr><tr><td></td><td></td></tr><tr><td colspan="2"></td></tr></table>	ع	و				
ع	و																			
ع	و																			
ع	و																			

التمرين الثاني: اكمل كما في المثل:

$$23 = 10 + 10 + 3$$

$$35 =$$

$$46 =$$

$$35 =$$

التمرين الثالث: اكتب الاعداد بالحروف

:19

:28

الوضعية الإدماجية:

لدى لبنى 7 حبات من الحلوى. ولدى بشرى 5 حبات من الحلوى

*كم حبة حلوى لدى لبنى وبشرى مع؟

.....=.....

العملية:

لدى لبنى وبشرىحبة

نموذج-2-في الرياضيات

اختبار الفصل الثاني في الرياضيات:

التمرين الاول: اكتب الاعداد بالارقام

واحد وستون:

تسعة عشر:

خمسة عشر:

التمرين الثاني: اكمل الشريط العددي:

	67	
--	----	--

	41	
--	----	--

	17	
--	----	--

	20	
--	----	--

التمرين الثالث: اكمل ملء الفراغات

$$55.....=60 / 24.....=30 / 13.....=20 / 47.....=50$$

التمرين الرابع: لون خانة العدد الاصغر في كل بطاقة

25	52
----	----

67	16
----	----

83	10
----	----

92	99
----	----

الوضعية الادماجية:

اشترى احمد 7 اقلام . واشترت اخته خديجة 3 اقلام.

كم قلما اشترى احمد واخته

العملية

اشترى احمد واختهاقلام