

الاسم واللقب:.....
السنة الدراسية: 2019/2018

المادة: الرياضيات
المستوى: الأولى ابتدائي

اِخْتِبَارُ الْفَصْلِ الْأَوَّلِ

التَّمرين الأول:

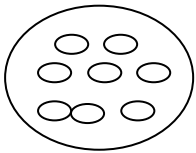
املأ الشَّريطَ العَدَدِي.

→

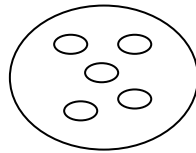
.....	1	5	8
-------	---	-------	-------	-------	---	-------	-------	---	-------	-------

التَّمرين الثاني:

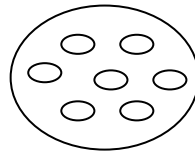
اربطْ بِالْعَدَدِ الْمُنَاسِبِ.



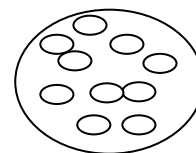
5



8



10



7

التَّمرين الثالث:

(أ) رتِّب الأعداد التَّالِيَةَ مِنَ الْأَكْبَرِ إِلَى الْأَصْغَرِ

2 - 5 - 6 - 1 - 3 - 7

→

.....
-------	-------	-------	-------	-------	-------

(ب) رتِّب الأعداد التَّالِيَةَ مِنَ الْأَصْغَرِ إِلَى الْأَكْبَرِ

9 - 4 - 8 - 0 - 5 - 7

→

.....
-------	-------	-------	-------	-------	-------

التَّمرين الرابع:

اكتبْ العَدَدَ الَّذِي يَسْبِقُ وَالْعَدَدَ الَّذِي يَلِي.

→

.....	7
-------	-----	-----	---

→

.....	...	5	...
-------	-----	---	-----

→

.....	3
-------	---	-----	-----

التّمرين الخامس:

أُحسبُ

$3+4=.....$

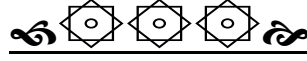
$2+6=.....$

$4+6=.....$

$8+0=.....$

$3+2=.....$

$5+1=.....$



الاسم واللقب:.....
السنة الدراسية: 2019/2018

المادة: الرياضيات
المستوى: الأولى ابتدائي

تَصْحِيحُ إِخْتِبَارِ الْفَصْلِ الْأَوَّلِ


التَّمرين الأول:

املأ الشَّريطَ العَدَدِي.



التَّمرين الثاني:

ارْزِطْ بِالْعَدَدِ الْمُنَاسِبِ.



التَّمرين الثالث:

(أ) رتِّب الأعداد التَّالِيَةَ مِنَ الْأَكْبَرِ إِلَى الْأَصْغَرِ

2 - 5 - 6 - 1 - 3 - 7



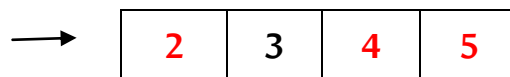
(ب) رتِّب الأعداد التَّالِيَةَ مِنَ الْأَصْغَرِ إِلَى الْأَكْبَرِ

9 - 4 - 8 - 0 - 5 - 7



التَّمرين الرَّابِع:

اكتُب العَدَدَ الَّذِي يَسْبِقُ وَالْعَدَدَ الَّذِي يَلِي.



التّمرين الخامس:

أُحسب

$$3+4=7 \quad , \quad 2+6=8 \quad , \quad 4+6=10$$

$$8+0=8 \quad , \quad 3+2=5 \quad , \quad 5+1=6$$

