



نوفمبر 2022


المستوى: الأول ابتدائي (1AP)

الفرض الأول في مادة الرياضيات (1م)


التمرين 01: أكمل كتابة الأعداد على الشريط العددي.




التمرين الثاني: أعد الفواكه ثم ألون بطاقة العدد المناسب.




4 2 9



1 2 7

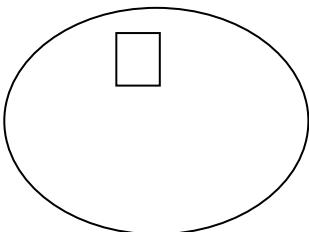


6 8 3

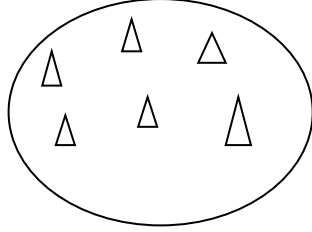


7 9 5

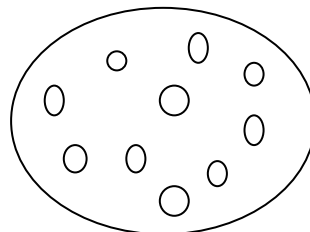
التمرين الثالث: أربط كل مجموعة بالعدد المناسب.




6



1




8



10

التمرين الرابع: أَرَسِّمُ قُرَيْصَاتٍ بِقَدْرِ الْعَدَدِ الْمَكْتُوبِ فِي الْبِطَاقَةِ.



4

0

7

10

التمرين الخامس:

أَلَوِّنُ بِالْأَحْمَرِ الطُّيُورَ الْمَوْجُودَةَ أَعْلَى الشَّجَرَةِ.  
وَبِالْأَخْضَرِ الطُّيُورَ الْمَوْجُودَةَ أَسْفَلَهَا .




## تصحيح الفرض الأول في مادة الرياضيات


التمرين 01: أكمل كتابة الأعداد على الشريط العددي.




التمرين الثاني: أعد الفواكه ثم ألون بطاقة العدد المناسب.




4 2 9



1 2 7

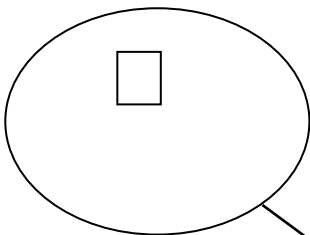


6 8 3

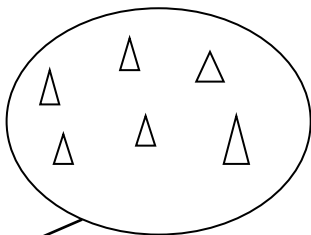


7 9 5

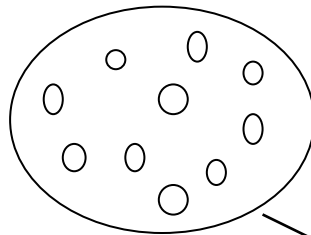
التمرين الثالث: أربط كل مجموعة بالعدد المناسب.




6



1

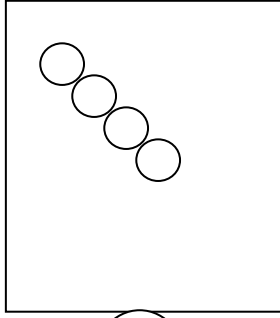


8



10

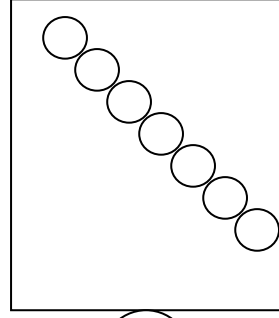
التمرين الرابع: أَرَسِّمُ قُرَيْصَاتٍ بِقَدْرِ الْعَدَدِ الْمَكْتُوبِ فِي الْبِطَاقَةِ.



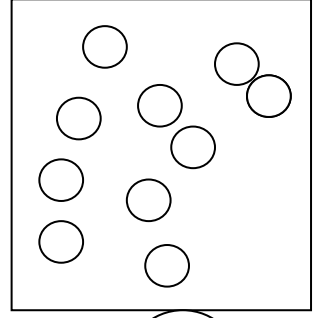
4



0



7



10

التمرين الخامس:

أَلَوِّنُ بِالْأَحْمَرِ الطُّيُورَ الْمَوْجُودَةَ أَعْلَى الشَّجَرَةِ.  
وَبِالْأَخْضَرِ الطُّيُورَ الْمَوْجُودَةَ أَسْفَلَهَا .

