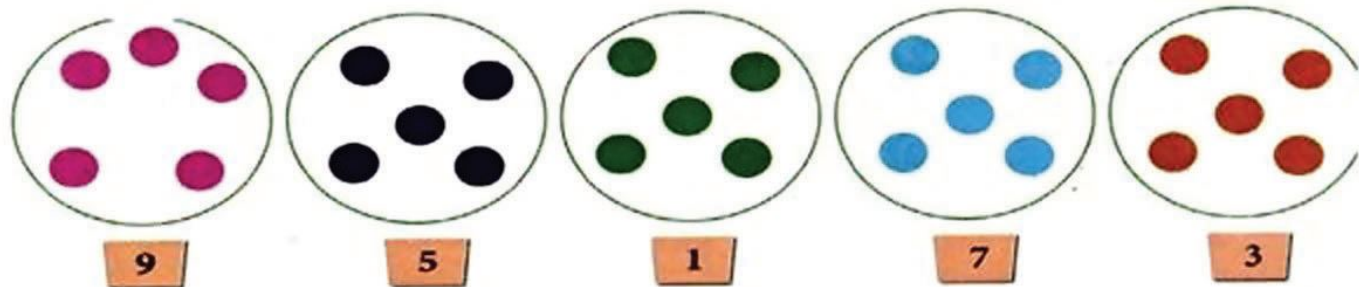


### اختبار في مادة الرياضيات الفصل الأول




1. الوضعية 1: أرسّم القُرَيْصَاتِ النَّاقِصَةَ أَوْ أَشْطَبِ الرَّاكِدَةَ حَسَبِ العَدَدِ المَكْتُوبِ:



الوَصُولُ

2. الوضعية 2: لَوْنِ السَّيَّارَةَ الرَّابِعَةَ فِي السَّبَاقِ بِالأَخْمَرِ وَالأَخِيرَةَ بِالأَزْرَقِ:




3. الوضعية 3: رَتِّبِ الأَعْدَادَ مِنَ الأَكْبَرِ إِلَى الأَصْغَرِ: 5 - 0 - 9 - 2 - 7



4. الوضعية 4: اكْمِلْ مَلَأَ الفَرَاغَاتِ:

$$\begin{array}{ccc} 2 + \cdot = 5 & \cdot + 7 = 10 & \cdot + 1 = 3 \\ \cdot + 3 = 7 & 2 + \cdot = 4 & 3 + \cdot = 8 \end{array}$$

5. الوضعية 5:



- في العيد كَانَ عِنْدَ حَدِيجَةَ 9 بَالُونَاتِ، لَعِبَتْ بِهَا فَانفَجَرَتْ 5 بَالُونَاتِ.
- أَشْطَبِ البَالُونَاتِ المُنْفَجِرَةَ فِي الرَّسْمِ.
  - أَحْسِبْ عَدَدَ البَالُونَاتِ المُتَبَقِيَّةِ. . . = .
  - بَقِيَ عِنْدَ حَدِيجَةَ ..... بَالُونَاتِ.

