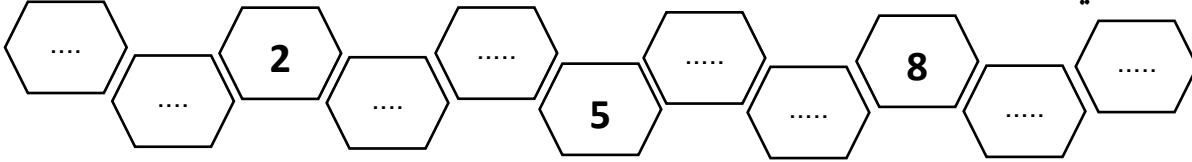


## التقويم الأول في مادة الرياضيات


الاسم: .....

اللقب: .....


1/ أكمل الشريط العددي:



2/ أحسب عدد الأزهار وأضع العدد المناسب:



3/ رتب الأقلام تنازليا من الأطول الى الأقصر (من 4 الى 1)



4/ أتمم عمليات الجمع والطرح الآتية:

$$4 + 3 = \dots$$

$$5 + 2 = \dots$$

$$4 + 4 = \dots$$

$$10 - 3 = \dots$$

$$8 - 5 = \dots$$

$$6 - 6 = \dots$$

5 / أرتب الأعداد من الأكبر الى الأصغر:

7 . 9 . 8 . 5 . 16

.....

6 / أكمل بالأرقام:

- أربعة عشر = .....

- تسعة عشر = .....

7 / **المتاهة:** ساعد القط ليجد السمكة.

