

إمتحان في مادة رياضيات الفصل الأول

التمرين 1: أحسب العمليات التالية:

$9 - 0 = \dots$

$8 - 2 = \dots$

$6 + 4 = \dots$

$7 + 3 = \dots$

التمرين 2: أكمل ما يلي:

ضعف 8 هو: .....

نصف 10 هو: .....

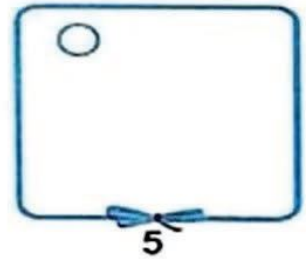



ضعف 7 هو: .....

نصف 6 هو: .....

التمرين 3: أكمل الشريط العددي:

|    |    |    |    |    |    |    |    |    |    |
|----|----|----|----|----|----|----|----|----|----|
| 26 | .. | 28 | .. | .. | .. | 32 | .. | .. | 35 |
|----|----|----|----|----|----|----|----|----|----|

التمرين 4: أكمل الرسم حسب العدد المطلوب:



التمرين 5: أحط كل عشرة أزهار في دائرة ثم املء الجدول الموالي:

|   |   |
|---|---|
| ع | ا |
|   |   |



التمرين 6: لون الشريط الطويل بالأزرق ، و الشريط القصير بالأحمر:

